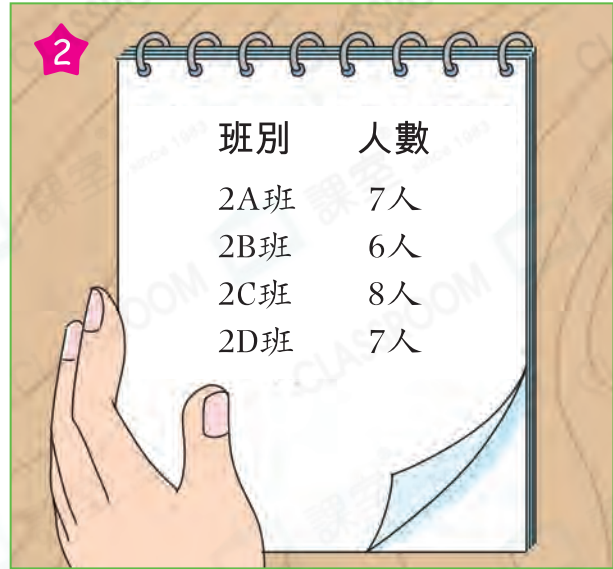


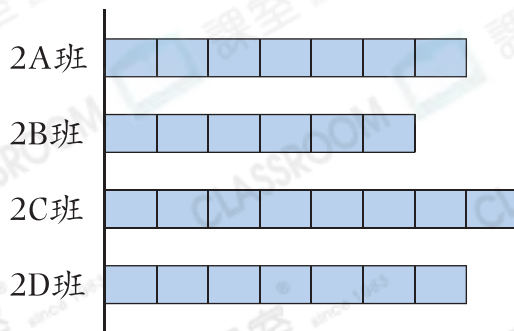
統計人數



方塊圖

二年級各班步行上學的學生人數

一方塊代表1人



方塊的大小要相同，方塊和方塊之間沒有空隙。



鞏固訓練

閱讀右面的方塊圖，回答下列各題。

1. 上星期有_____份英文科的家課。


上星期各科的家課數量

2. 上星期_____科的家課數量最多。

一方塊代表1份

3. 常識科的家課比數學的少多少份？

答案：_____份



題型突破

4. 下表顯示四位學生中文默書滿分的次數。

	國順	維嘉	明軒	成希
次數(次)	4	2	5	9

根據統計結果，完成以下的方塊圖，並加上標題。

(標題)

一方塊代表1次

