

# 單元小測(四)

試前衝刺



日期

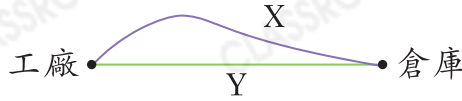
限時：20分鐘

練習 12 - 15



回答下列各題。(5分)

1.

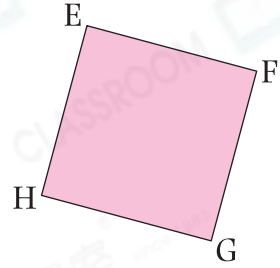


從工廠到倉庫有2條路線，其中路線\* X / Y 較短。(\*圈出答案)(1分)

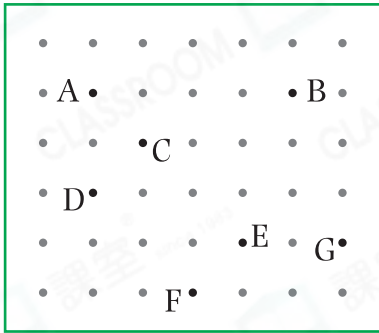
2. (a) 右圖是一個 \_\_\_\_\_ 形。(1分)

(b) \_\_\_\_\_ 是FG的對邊。(1分)

(c) \* EF / FG / EH (\*圈出答案)是GH的鄰邊。(1分)



3.



慧芳在左面的釘板上圍出一個長方形，她應選用哪四點？寫出代表答案的英文字母。(1分)

答案：\_\_\_\_\_ 點， \_\_\_\_\_ 點，  
\_\_\_\_\_ 點， \_\_\_\_\_ 點，



選出答案，把代表答案的○塗黑和塗滿。(3分，每題1分)

4. 下列哪項描述是**不正確**的？

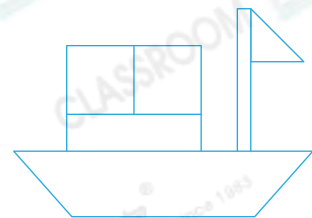
- A. 長方形四邊長度相等。      ○B. 正方形四邊長度相等。  
○C. 長方形有四個直角。      ○D. 正方形有四個直角。

5. 下列哪一個圖形只由線段組成？

- A.      ○B.      ○C.      ○D.

6. 右圖中，共可數出長方形多少個？

- A. 2個      ○B. 3個  
○C. 4個      ○D. 6個





根據資料，完成象形圖。(3分)

7. 學校統計了2B班學生學習各類樂器的人數，每人最多學習一種。

樂器	小提琴	鋼琴	古箏	其他
人數(人)	4	6	4	3

根據統計結果，完成以下的象形圖，並加上標題。

(標題)

每個 ☺ 代表1人

☺			
☺			
☺			
☺	☺	☺	☺

鋼琴

其他



根據上圖，回答下列各題。(4分，每題1分)

8. 學習 \_\_\_\_\_ 的學生比學習古箏的多2人。

9. 學習小提琴和學習 \_\_\_\_\_ 的學生人數相同，各有 \_\_\_\_\_ 人。

10. 信君學習西洋長笛，屬於 \_\_\_\_\_ 一項。

11. 2B班有30人，即有 \_\_\_\_\_ 人沒有學習樂器。