

# 線段、鄰邊

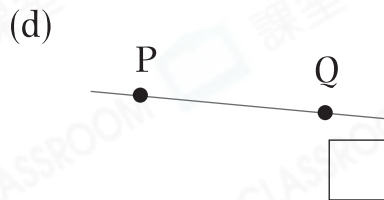
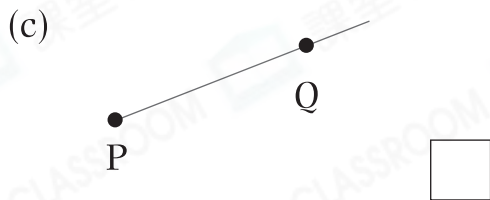
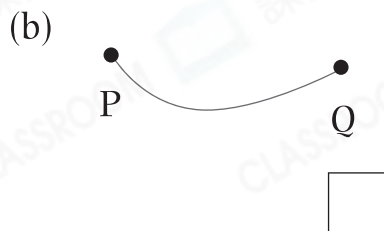
姓名:

日期:

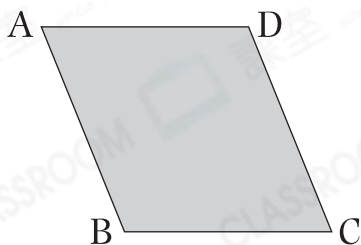
班別:

## 熱身練習

1. 下列各圖中的整條線是連接P、Q兩點的線段嗎？是的，在空格內加上「✓」；不是的，加上「✗」。



2.



左圖中，


(a) AB和 \_\_\_\_\_ 是一組對邊。

(b) AB的鄰邊是\* BC / DC / AD。

(\* 圈出所有答案)

3. (a) 分別用一條直線和一條曲線，把點M和點N連起來。

(b) 直線比曲線\*長 / 短 (\*圈出答案)，這條直線稱為線段 \_\_\_\_\_。




能力升級

4. 用顏色筆畫出指定的邊。

(a) 一組對邊

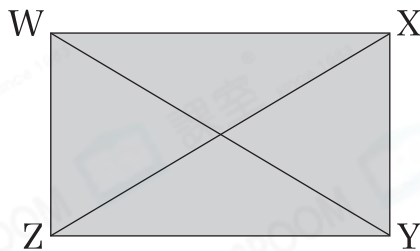


(b) 一組鄰邊



5. 觀察右面的四邊形 WXYZ，下列哪一項是不正確的？

- A. WX 是 WZ 的鄰邊。
- B. XY 和 WZ 是一組對邊。
- C. YZ 的其中一條鄰邊是 XY。
- D. WY 和 XZ 是一組鄰邊。



6. 

上圖中，共可數出線段多少條？

答案：\_\_\_\_\_ 條



**CLASSROOM Tips**

依次序，從左邊的第一個端點開始數起。

進階題

7. 右面的方格紙上有 4 個點，可兒 連接其中任意兩個點，共可畫出 \_\_\_\_\_ 條不同的線段。

