

8. 欣怡有 230 分超級市場積分，換了一盞檯燈後，還剩_____分積分。



9. 玩具車原價 78 元，現以特價 58 元 8 角出售。子怡以特價買了一輛玩具車，她節省了款項多少？

答案：_____元_____角

10. 哥哥有 131 張遊戲卡，弟弟有 79 張遊戲卡，兩人有的遊戲卡相差_____張。

11. 商場印製了 1500 張優惠券，由 3 月 28 日開始每天派發 250 張，在哪一天會派完全部優惠券？

○A. 3 月 30 日 ○B. 4 月 1 日 ○C. 4 月 2 日 ○D. 4 月 3 日

12. 一盒積木現售 63 元 2 角，比原價優惠了 22 元 8 角。積木的原價是多少？(列式計算)

13.



店員



我們每天上午和下午各製作 250 個叉燒包和 160 個菜肉包。



今天旺旺包點店餘下 65 個叉燒包，即今天共售出了_____個叉燒包。



14. 停車場分成三層，共停泊了 393 輛汽車。第一層停泊了 142 輛汽車，第二層停泊了 125 輛，第三層停泊了汽車多少輛？
(列式計算)

15. 在一次數學遊戲中，智文獲得 278 分，比少峰多 113 分，少峰又比沛聰少 21 分，沛聰獲得多少分？

答案：_____分

16. (a) 1 張  可換得 _____ 張  。

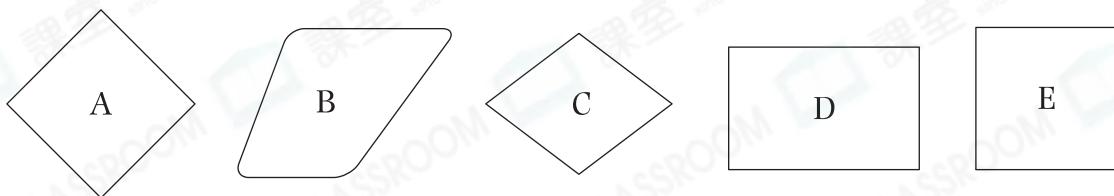
- (b) 5 張  可換得 _____ 張  。

- (c) 10 張  共可換得 _____ 個  。

17. 德義購買一個右面的水杯，圈出他須付的款項。



19. 觀察下列圖形，寫出所有代表答案的英文字母。



(a) 四邊形：_____

(b) 正方形：_____

20. 老師統計了二年級各班訂閱雜誌的學生人數。

班別	2A	2B	2C	2D
人數(人)	5	6	5	4

(a) 根據統計結果，完成象形圖，並加上標題。

(標題)

每個 代表 1 人



(b) 2A 班訂閱雜誌的人數比 2D 班 * 多 / 少 _____ 人。

(* 圈出答案)

(c) 二年級訂閱雜誌的學生共有 _____ 人。

— 全卷完 —