



2 數數活動

日期

成績

◆ 每 200、250、500 和 1000 個一數



鞏固訓練

在橫線上填答案。

1.



有 _____ 個 200，
即共有 _____ 枝牙籤。

2.



有 _____ 個 250，
即共有 _____ 粒波子。

按規律，填數字。

3.

1000	2000	3000			6000	
------	------	------	--	--	------	--

4.

3500	3000		2000		1000	
------	------	--	------	--	------	--

5.

750	1000			1750		2250
-----	------	--	--	------	--	------



題型突破

6. 下列哪一項的結果最小？

A. 4 個 250

B. 3 個 500 少 100

C. 2 個 1000

D. 5 個 200 多 50

7. 商店有兩包右圖的氣球。

(a) 商店共有 _____ 個氣球。

(b) 每天送出 200 個氣球，3 天* 能 / 不能

(* 圈出答案) 送完這些氣球。



8. 把一箱畫紙每 200 張或 250 張分成一疊，都剛好分完。這箱畫紙最少有多少張？

- A. 500 張 ○B. 600 張 ○C. 1000 張 ○D. 2000 張

9. 

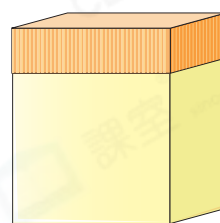
CLASSROOM Educator

先列舉每 200 個一數的數，再選用數字卡。

選用上面的數字卡組成一個最小的四位數，且這個數等於若干個 200。這個數是什麼？

答案：_____

10. 一個盒子最多可裝 1000 枝棉花棒。現有 2300 枝棉花棒，最少要_____個盒子才能全部裝好。



1000 枝

11. 每包打印紙有 500 張。

(a) 公司現有 9 包打印紙，即共有_____張。

(b) 公司計劃每天派發 1000 張傳單，共派發 5 天。最少應多購入打印紙多少張，才足夠印製這些傳單？



答案：_____張

 **跨課題專區**

12. 老師有 800 張  和 750 張 。

(a) 把  整齊地疊起來，可砌成一個

* 三角柱 / 三角錐 (* 圈出答案)。

(b) 如果二年級每班需要 200 張  和 250 張 ，這些手工紙最多可分給

_____ 班。



2上 立體圖形

三角柱



三角錐

