

考試

姓名：

日期：

班別：

總分：

練習 1 - 15

限時：30 分鐘

1. 三個四位數由小至大排列如下：

3054 ， 3450 ，
(最小) (最大)

在空格內填上適當的數。

2. $30 \div 6 =$ _____

3. $684 - 277 =$ _____

4. $200 - 95 + 43 =$ _____

5. 把 53 除以 8 ， 商是 _____ ， 餘數是 _____ 。

6. 

每人可分得 2 顆糖果，上面的糖果共可分給 _____ 人。

7. 小食店有 36 包果凍，店主把果凍每 4 包分成一袋出售，共可分成 _____ 袋。

8. 每個紙箱可裝 8 個玩具熊。工人要把 52 個玩具熊放進紙箱裏，最少需要用紙箱多少個？(列式計算)

9. 把一些紙星星每 500 顆裝成一瓶，剛好能夠裝成 4 瓶。若改為每 250 顆裝成一瓶，共可裝成多少瓶？

答案：_____ 瓶

10. 一雙襪子現以半價出售，現售多少元？(列式計算)



11. (a) 五枝裝畫筆平均每枝的售價比一枝裝的 * 貴 / 便宜 (* 圈出答案)
_____ 元 _____ 角。

畫筆

一枝	7 元 6 角
五枝裝	30 元

(b) 五枝裝畫筆的售價是直尺的 4 倍，直尺的售價是多少？

答案：_____ 元 _____ 角

12. 下表顯示一袋氣球中各種顏色的氣球數量。

顏色	紅色	藍色	紫色
數量(個)	113	164	?

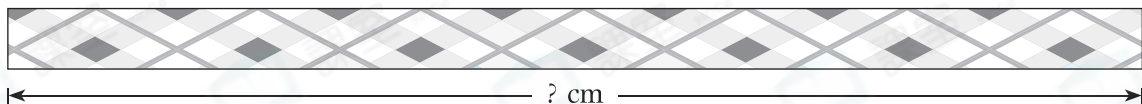
藍色氣球比紫色氣球多 39 個，紫色氣球有 _____ 個。

13. 以下是爸爸在便利店購物所付的款項：



爸爸付了 _____ 元 _____ 角。

14. 用直尺量度下面紙條的長度。




- (a) 上面的紙條長_____。(答案須寫上單位)
 (b) 它和一條長1米80厘米的絲帶相差_____厘米。

15. 觀察右圖，這是一個* 長方形 / 正方形

(* 圈出答案)，它有_____個直角。



16.



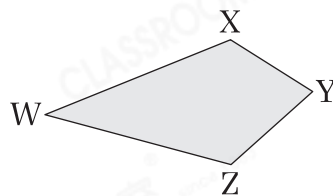
左圖中，

- (a) 共有_____個正方形。
 (b) 共有_____個長方形。

17. (a) 右圖由_____條線段圍成。

(b) XY的對邊是_____。

(c) _____和WZ是一組鄰邊。





18. 有兩種四邊形具備以下特性：四角相等。

(a) 寫出這兩種四邊形的名稱。

(i) _____形 (ii) _____形

(b) 在下面的方格紙上畫出這兩種四邊形。



18. (a) 英語節目在  開始，那時是* 上午 / 下午 (* 圈出答案) _____ 時 _____ 分。

(b) 英語節目在  結束，節目共播放了 _____ 分鐘。

19. 在下列各項填上適當的長度單位。

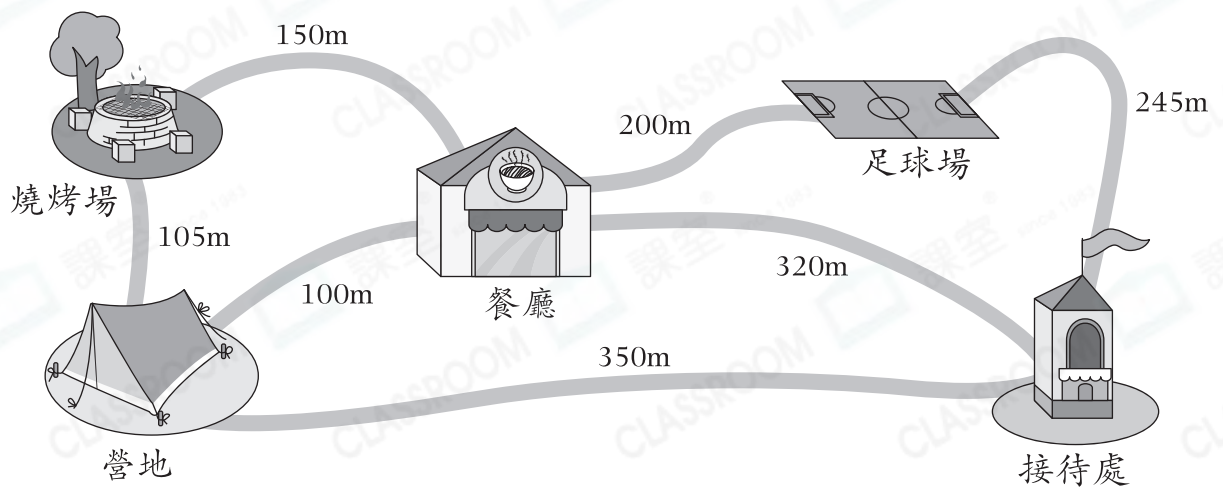
(a) 魚塘的水深約 4 _____。

(b) 書展入場券長約 12 _____。

(c) 珊珊的身高是 142 _____。

(d) 一棟大廈高 56 _____。

20. 細閱下圖，回答下列問題。



(a) 距離餐廳最近的地方是 _____。

(b) 從營地經餐廳走到足球場，全程要走 _____ m。

(c) 從燒烤場到接待處，較短的路線是經* 營地 / 餐廳 (* 圈出答案) 前往，全程共要走 _____ 米。

— 全卷完 —