

# 單元小測(一)

試前衝刺



日期

限時：20分鐘

練習 1 - 3



14分鐘

回答下列各題。(11分)

1. 在 2458 這個數中，數字「4」是在  
\* 個位 / 十位 / 百位 / 千位。( \* 圈出答案) (1分)

2. 用中國數字寫出「4037」這個數。(1分)

答案：\_\_\_\_\_

3.



把以上各數由大至小排列。(1分)

答案：\_\_\_\_\_， \_\_\_\_\_， \_\_\_\_\_  
(最大) (最小)

4. 學校需購買 750 個萬字夾，即最少需購買右圖的萬字夾多少盒？(1分)

答案：\_\_\_\_\_ 盒



5. 以下是立邦在書局買書須付的款項：



(a) 他共用了 \_\_\_\_\_ 張紙幣和 \_\_\_\_\_ 個硬幣付款。(1分)

(b) 他共付了 \_\_\_\_\_ 元 \_\_\_\_\_ 角。(1分)

6. (a) 模型船的售價是多少？(1分)

答案：\_\_\_\_\_ 元 \_\_\_\_\_ 角

(b) 爸爸打算購買一艘模型船，圈出他應付的款項。(1分)








\$70.30





7. (a) 10個  可換得 \_\_\_\_\_ 張 。(1分)

(b) 1張  可換得 \_\_\_\_\_ 張 。(1分)

(c) \_\_\_\_\_ 張  和 \_\_\_\_\_ 張  可換得  
1張 。(1分)

 選出答案，把代表答案的  塗黑和塗滿。(5分，每題1分)  
6分鐘

8. 在5708這個數中，數字「5」表示的數值是多少？

- A. 五       B. 五十       C. 五百       D. 五千

9. 2個1000等於多少個500？

- A. 2個       B. 4個       C. 6個       D. 8個

10.

3000, 2750, ▲, 2250, 2000

根據以上規律，▲代表多少？

- A. 1750       B. 2450       C. 2500       D. 2550

11.



選用以上數字卡組成一個最小的四位單數，這個數是什麼？

- A. 165       B. 1056       C. 1065       D. 1085

12. 表哥買一個售75元4角的足球，他最少須付紙幣和硬幣多少而不需  
要找贖？

- A. 2張紙幣和3個硬幣       B. 2張紙幣和5個硬幣  
 C. 3張紙幣和3個硬幣       D. 3張紙幣和5個硬幣