



8 秒

日期

成績



鞏固訓練

寫出以下各時鐘顯示的時間。

1.




_____ 時 _____ 分 _____ 秒

2.



_____ 時 _____ 分 _____ 秒

3.



_____ 時 _____ 分 _____ 秒

4.

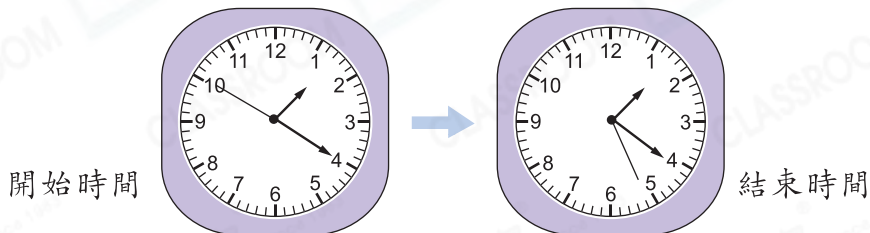


_____ 時 _____ 分 _____ 秒



題型突破

5.



以上是一則廣告開始和結束播放的時間，廣告共長 _____ 秒。


6. 在橫線上填上適當的時間單位。

(a) 一堂數學課的時間約是 40 _____。

(b) 佳玲跑 50 米用了 18 _____。

7. 右圖的秒錶記錄了志民還原扭計骰所用的時間，他共用了多少秒？

答案：_____ 秒



8. 哥哥用微波爐加熱食物1分鐘，即加熱了_____秒。

9. 文博開始摺紙飛機的時間是 ，54秒後結束。他摺紙飛機的結束時間是_____午_____時_____分_____秒。

10. 媽媽在7時40分55秒出門，在8時14分32秒到達公司，途中遇見鄰居，當時可能是

A.



B.



C.



D.



11.

名次	所用時間
1	6分鐘18秒
2	6分鐘55秒
3	7分鐘12秒

左面是速算比賽前三名參賽者完成比賽所用的時間。

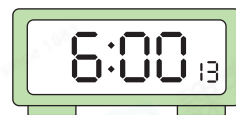
(a) 第二名比第一名慢了_____秒。

(b) 第四名比第三名多用了28秒。第四名參賽者共用了_____分鐘_____秒完成比賽。



跨課題專區

12. (a) 右圖數字鐘顯示節目《未解之謎》開始播放的時間，當時是_____時_____分_____秒。



(b) 節目《未解之謎》每逢星期六播放一集。如果六月一日是星期五，則六月共播放《未解之謎》多少集？

答案：_____集

13. 機械人移動1米需要9秒，經過右圖秒錶顯示的時間，機械人共可移動多少米？

答案：_____米

