



11 認識及比較重量

日期

成績



鞏固訓練

把下列各項依指示排列出來，寫出代表答案的英文字母。

1.



由輕至重：

_____ < _____ < _____

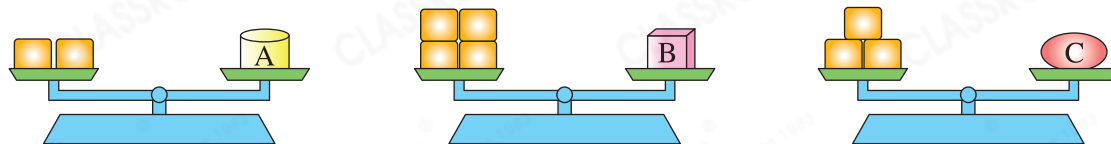
2.



由重至輕：

_____ > _____ > _____

3.



由輕至重：

_____ < _____ < _____



題型突破

4.



根據上圖，下列哪項的重量和6顆 M&M's 的重量相等？

A. 一條

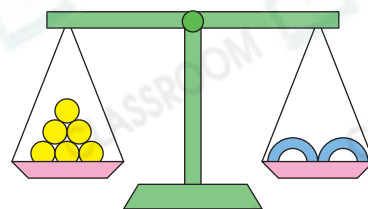
B. 兩條

C. 兩條

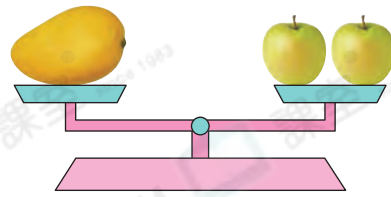
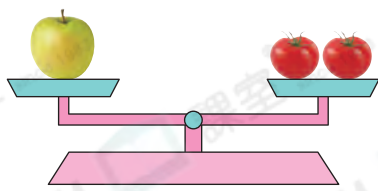
D. 一條 和一條

5. 右圖中，1個 的重量等於 _____ 粒

的重量。



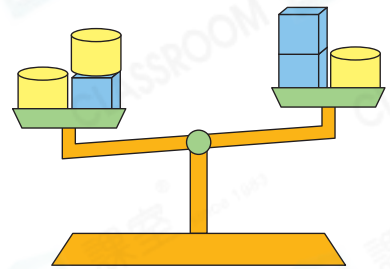
6.



- (a) 的重量等於 _____ 個 的重量。
- (b) 的重量等於 _____ 個 的重量。
- (c) 比 * 輕 / 重 (* 圈出答案) _____ 個 。

7. 細閱右圖，下列哪項描述是正確的？

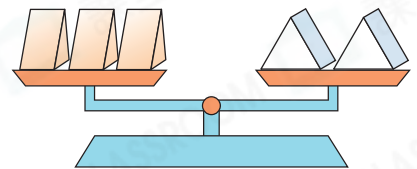
- A. 比 重。
- B. 比 重。
- C. 和 一樣重。
- D. 無法比較 和 的重量。



跨課題專區

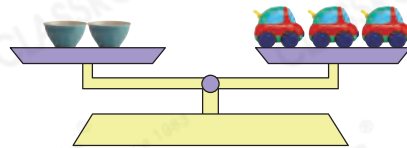
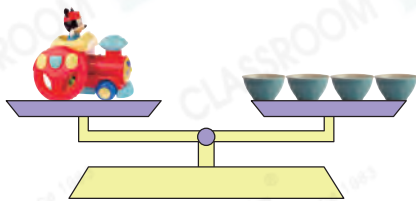
8. (a) 天平上的積木都是哪種立體圖形？

答案：* 三角柱 / 三角錐 / 四角柱
(* 圈出答案)



- (b) 9塊 的重量等於4塊 的重量，2塊 的重量等於 _____ 塊 的重量。

9.



- (a) 一輛 的重量是一輛 的 _____ 倍。
- (b) 2輛 的價錢等於6輛 的價錢，如果每輛 售10元，每輛 售 _____ 元。