



12 克和公斤

日期

成績



鞏固訓練

圈出較適合量度下列物件重量的單位。

1.



(克 / 公斤)

2.



(g / kg)

3.



(g / kg)

在橫線上填上答案。

4. $4\text{kg} = \underline{\hspace{2cm}}\text{g}$

5. $8000\text{克} = \underline{\hspace{2cm}}\text{公斤}$

6. $1\text{公斤} 30\text{克} = \underline{\hspace{2cm}}\text{克}$

7. $3\text{kg}400\text{g} = \underline{\hspace{2cm}}\text{g}$



題型突破

8. 下列哪種工具最適合用來量度舅父的體重？

A.



B.



C.



D.



9. 在下列各項填上適當的重量單位。

(a) 一張被單約重 1400 _____。

(b) 一罐油漆可髹一間房間的牆，這罐油漆約重 4 _____。

10.



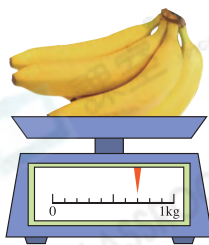

的重量是多少？

答案：_____

(答案須寫上單位)



11.



CLASSROOM Educator

先分別找出兩個磅
每格代表多少克。

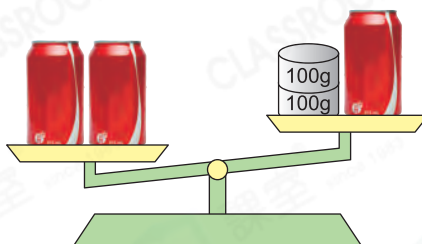
(a) 南瓜的重量是_____克。

(b) 南瓜比香蕉* 輕 / 重 _____ 克。

(* 圈出答案)

12. 一罐汽水可能重

- A. 100 克。
- B. 150 克。
- C. 180 克。
- D. 210 克。



跨課題專區

13.

蛋糕種類	栗子蛋糕	綠茶蛋糕	芝士蛋糕
重量	410g	285g	1kg100g

上表記錄了三款蛋糕的重量，媽媽買了最重的一款蛋糕。

(a) 媽媽買了_____蛋糕，重_____g。

(b) 媽媽買的蛋糕售 205 元，她額外付了 20 元加購巧克力裝飾。她以會員卡付款，可減 37 元。媽媽共須付多少元？

答案：_____元

14. (a) 每瓶果仁重多少公斤？

答案：_____公斤

(b) 將所有果仁每 500 克分成一份，共可分成多少份？

答案：_____份

