

單元小測(三)

試前衝刺



日期

限時：20分鐘

練習 9 - 12



3分鐘

計算下列各題。(6分，每題1分)

1. $67 \div 5 =$ _____

2. $84 \div 6 =$ _____

3. $184 \div 8 =$ _____

4. $251 \div 4 =$ _____

5. $84 \div 4 \div 3 =$ _____

6. $192 \div 8 \div 5 =$ _____



8分鐘

回答下列各題。(7分)

7. (a) 小食店有 160 粒魚蛋，共可串成 _____ 串魚蛋。(1分)

(b) 李先生付 50 元買了最多串的魚蛋後，應找回 _____ 元。(1分)



8.



2米30厘米

文芳有一卷絲帶，她用了半卷，即用了絲帶多少厘米？(1分)

答案：_____ 厘米

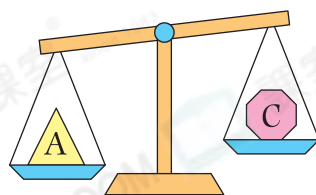
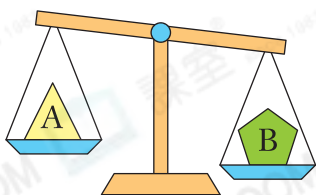
9. 在下列各項填上適當的度量單位。(3分，每分題1分)

(a) 一個 10 元硬幣重約 11 _____。

(b) 一桶花生油重約 5 _____。

(c) 一枝牙膏重約 70 _____。

10.



把物件 A、B 和 C 由輕至重排列出來。(1分)

答案：_____，_____，_____。
(最輕) (最重)



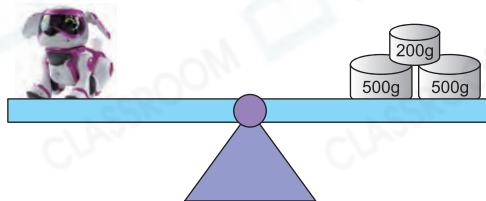
選出答案，把代表答案的○塗黑和塗滿。(3分，每題1分)

11. 三年級共有106名學生參加秋季旅行，每8名學生分成一組，並把餘下的學生分入其中一組，這組學生共有多少名？

- A. 10名 ○B. 11名 ○C. 12名 ○D. 13名

12. 右面的玩具狗重多少？

- A. 1200kg
○B. 700g
○C. 1kg200g
○D. 1kg



13. 以下哪一項最適合用來量度一個蜜瓜的重量？

- A. ○B. ○C. ○D.



列式計算下列各題。(6分，每題3分)

14. 便利店現有320盒檸檬茶。店員將檸檬茶每8盒包裝成一排後，擺放在一個5層貨架上，平均每層擺放檸檬茶多少排？

15. 每個盒子可放3杯果凍，零食店店員要放好77杯果凍，最少需要盒子多少個？