



鞏固訓練

寫出下列各圖中有多少組平行線。

1.



_____ 組

2.



_____ 組

3.



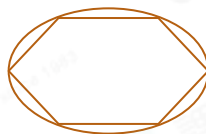
_____ 組

4.



_____ 組

5.



_____ 組

6.



_____ 組



題型突破

7. (a) 右圖中有* 直線 / 曲線 / 平行線 / 垂直線。

(* 圈出所有答案)



(b) 右圖中有* 直線 / 曲線 / 平行線 / 垂直線。

(* 圈出所有答案)



8.



(a) 與幸福街平行的街道是_____。

(b) 長樂街和安怡街互相* 平行 / 垂直。(* 圈出答案)

(c) 有_____條街道與志興街平行。

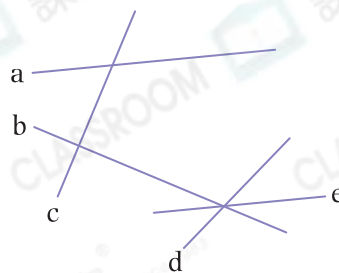
9. 細閱下列每項描述，若描述正確，在空格內加上「✓」；若描述錯誤，加上「✗」。

答案

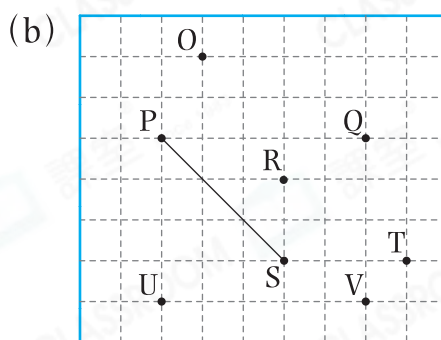
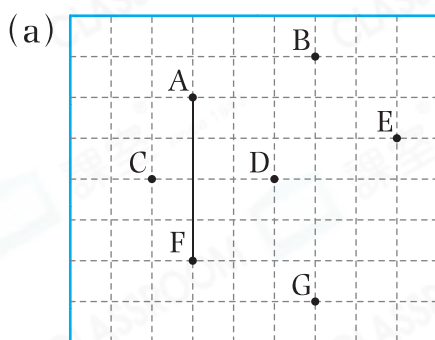
(a) 直線c和直線d互相平行。

(b) 圖中沒有垂直線。

(c) 直線a和直線e互相平行。

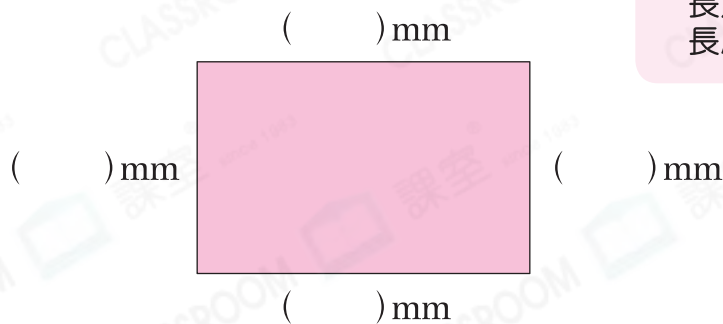


10. 選用其中兩點連成一條直線，與原有的直線組成一組平行線。



跨課題專區

11. 志民畫了下面的平面圖形。



知識重現

2下 長方形的性質

長方形的對邊平行且長度相等。

(a) 量度該圖形各邊的長度，寫在括號內。

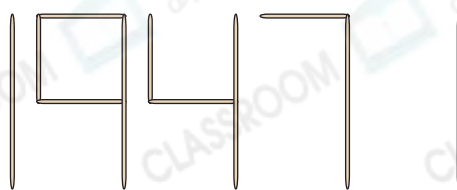
(b) 該圖形是一個_____形，它有_____組對邊平行。

12. 右圖是詠兒用竹籤拼成的五位數。

(a) 用中國數字寫出該五位數。

答案：_____

(b) 有最多平行線的是_____位上的數字。



前往 P.45 查看同類型易错题分析