



1 五位數

日期

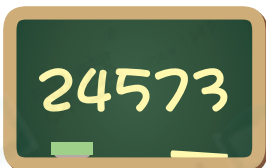
成績



鞏固訓練

根據左面的五位數，在橫線上填答案。

1.

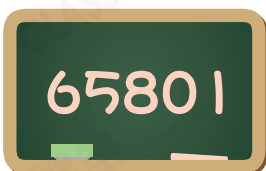


(a) 讀作：_____

(b) 百位數字是_____，表示_____。

(c) $24573 = \underline{\hspace{2cm}} + 4000 + 500 + 70 + 3$

2.



(a) 讀作：_____

(b) _____位數字是6，表示_____。

(c) $65801 = \underline{\hspace{2cm}} + \underline{\hspace{2cm}} + 800 + 0 + 1$



題型突破

3. 依規律填數。

(a) 50002, 50001, _____, _____, 49998, _____

(b) _____, _____, _____, 27530, 27630, 27730

4. 在40670這個數中，數字「6」表示的數值是多少？

A. 六

B. 六十

C. 六百

D. 六千

5. 用阿拉伯數字寫出「一萬零五十」這個數。

答案：_____

6. 朱經理統計了去年三種衣服的銷量。

款式	背心	襯衫	外套
銷量(件)	37890	56152	45341

把銷量由低至高排列出來。

答案：_____件，_____件，_____件
(最低) (最高)

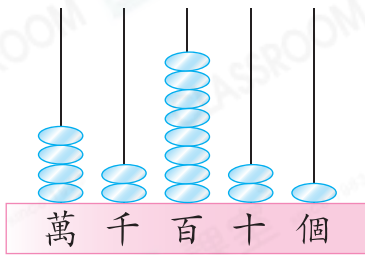
7.



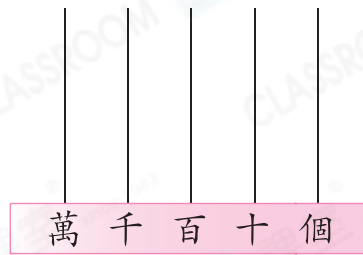
(a) 用上面的數字卡組成最大的五位數是_____。

(b) 用上面的數字卡組成最小的五位雙數是_____。

8. 圖一的算柱代表一個五位數，這個數加 200 是多少？把結果畫在圖二的算柱上。



圖一

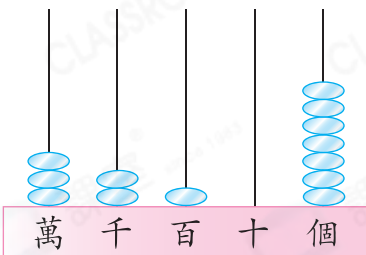


圖二

9. 詠恩寫出「79658」時，將這個數中的千位數字和萬位數字對調了。她誤寫的數是_____，比原來的數*大/小。(*圈出答案)

跨課題專區

10.



左面的算柱表示今年參加馬拉松比賽的人數。

(a) 用中國數字寫出參加馬拉松比賽的人數。

答案：_____人

(b) 爸爸在 4:35_{PM} 到達終點，比最後一名快了 19 分鐘，即最後一名在_____午
_____時_____分到達終點。

11. 一對鑽石戒指的售價是一個最小的五位單數。

(a) 一對鑽石戒指的售價是_____元。

(b) 李先生購買一對鑽石戒指，最少須付_____張
紙幣和_____個硬幣，而不需要找贖。

