



鞏固訓練

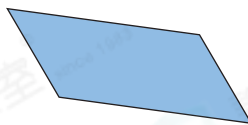
寫出下列各平面圖形的名稱。

1.



形

2.



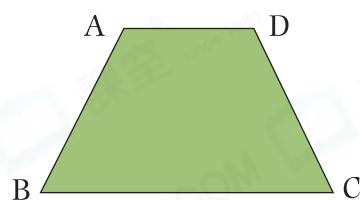
形

根據右面的梯形，圈出正確答案。

3. (AB / BC / CD / AD) 是梯形的上底，

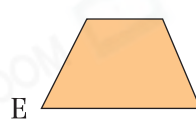
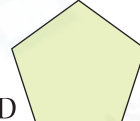
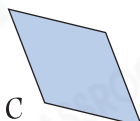
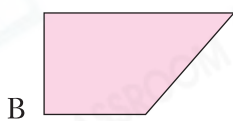
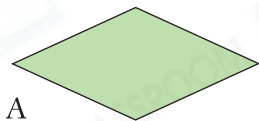
(AB / BC / CD / AD) 是梯形的下底。

4. AB 和 CD (平行 / 不平行)。



題型突破

5.



(a) 哪個 / 些四邊形兩組對邊平行？寫出所有代表答案的英文字母。

答案：_____

(b) 上圖中只有一組對邊平行的四邊形是 * _____ 和 _____ 。 (* 寫出代表答案的英文字母) 它們是 _____ 形。

6. 關於梯形，下列哪項是不正確的？

A. 只有一組對邊平行

B. 最少有一個鈍角

C. 上底和下底不相等

D. 最少有一個直角


7. 詠琪用右面三張等邊三角形卡紙，可拼成

一個 * 長方形 / 平行四邊形 / 梯形


(* 圈出答案)。




8. 芷珍有以下三組材料。



材料一




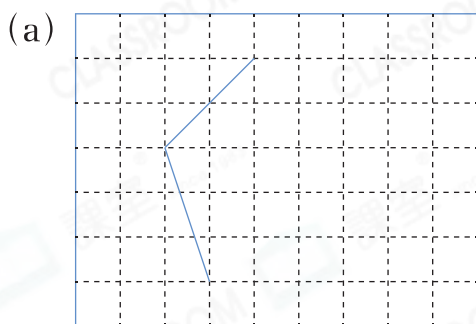
材料二



材料三

材料* 一 / 二 / 三 (*圈出所有答案)可拼砌出一個梯形。

9. 加畫兩條直線，與原有的直線組成一個梯形。

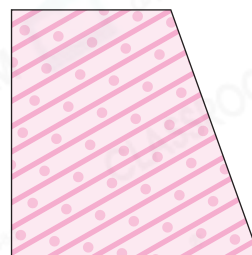


跨課題專區

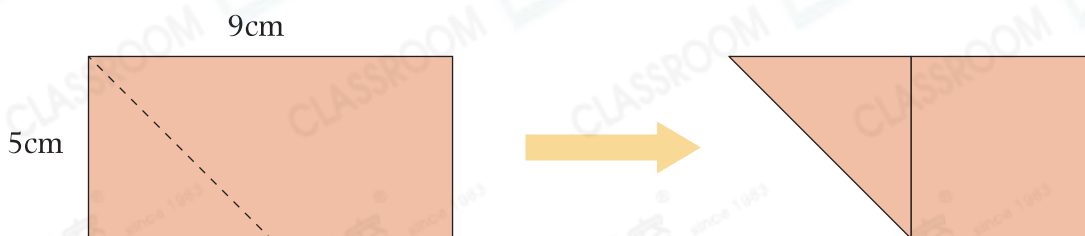
10. (a) 右圖是一張_____形手工紙，
它有_____組對邊平行。

(b) 用直尺量度這個圖形最短的一條邊的
長度，這條邊的長度是多少？

答案：_____ mm



11.



建偉把一張長方形畫紙沿着虛線對摺，製作成一個梯形，如上圖所示。

(a) 如果把原長方形畫紙沿虛線剪開，共可得_____個銳角。

(b) 梯形的兩條底的長度分別是_____ cm 和 _____ cm。