



16 24小時報時制

日期

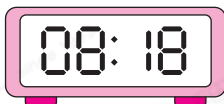
成績



鞏固訓練

寫出各數字鐘顯示的時間。

1.



_____ 午 _____ 時 _____ 分

2.



_____ 午 _____ 時 _____ 分

3.



_____ 午 _____ 時 _____ 分

4.



_____ 午 _____ 時 _____ 分

用「24小時報時制」表示答案。

5.

9:36AM

5小時後

_____ : _____

6.

7:13PM

3小時後

_____ : _____

7.

下午6時50分

47分鐘前

_____ : _____




題型突破

8. 昨天上午，爸爸的手錶壞了，如右圖所示。用「24小時報時制」表示手錶停止運行的時間。

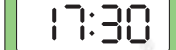
答案：_____ : _____ : _____



9. 龍舟比賽在  開始。

(a) 龍舟比賽的開始時間是 * 上午 / 下午 _____ 時 _____ 分。

(* 圈出答案)

(b) 龍舟比賽在  結束。龍舟比賽共用了 _____ 小時。

10. 右面的手錶顯示上午烹飪課開始的時間。

(a) 用「24小時報時制」表示烹飪課開始的時間是

_____ : _____。

(b) 烹飪課長55分鐘，在下面的數字鐘寫出烹飪課結束的時間。(答案以「24小時報時制」表示)



開始時間



11. 下表是電台部分的節目時間表。

播出時間	10:30	12:45	13:50	15:40
節目	新聞熱話	健康偵探	午後清談	潮流音樂

(a) 現在是下午2時12分，《午後清談》已播放了_____分鐘。

(b) 惠芳回到家時，電台正在播放《新聞熱話》，以下哪項可能是惠芳到家的時間？

- A. 09:09 B. 11:54 C. 12:46 D. 15:30

跨課題專區

12. 以下是游泳比賽首三名運動員完成比賽所用的時間。

名次	運動員	所用時間
1	<u>張子聰</u>	12分鐘15秒
2	<u>周健文</u>	12分鐘56秒
3	<u>譚少群</u>	13分鐘

(a) 第一名比第二名快了_____秒。

(b) 第三名在下午3時43分到達終點，用「24小時報時制」表示游泳比賽開始的時間。

答案：_____ : _____