

# 單元小測(四)

試前衝刺



日期

限時：20分鐘

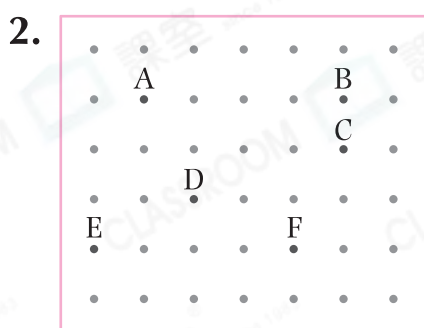
練習 13 - 16



10分鐘

回答下列各題。(8分)

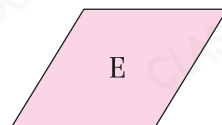

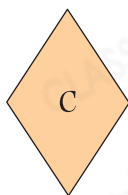
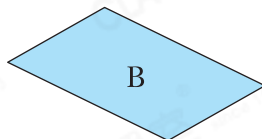
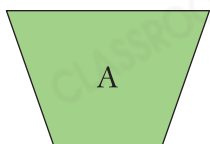
1. 用右面的全部竹籤可拼砌出一個 \_\_\_\_\_ 形  
或一個 \_\_\_\_\_ 形。(2分)



文芳嘗試用橡皮圈在左圖的釘板上圍出一個平行四邊形，她應選用釘板上的哪四點？把代表答案的英文字母寫在橫線上。(1分)

答案：\_\_\_\_\_，\_\_\_\_\_  
\_\_\_\_\_，\_\_\_\_\_

3. 觀察下列平面圖形，寫出所有代表答案的英文字母。(2分，每分題1分)



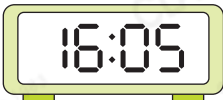
列出：

(a) 梯形：\_\_\_\_\_

(b) 所有平行四邊形：\_\_\_\_\_

4. (a) 媽媽在  從街市回家，那時是\* 上午 / 下午

(\* 圈出答案) \_\_\_\_\_ 時 \_\_\_\_\_ 分。(1分)

- (b) 媽媽在  回到家中，全程共用了 \_\_\_\_\_ 分鐘。(1分)

5. 右圖顯示哥哥開始晨跑的時間，他跑了20分鐘。用「24小時報時制」表示哥哥晨跑結束的時間是 \_\_\_\_\_ : \_\_\_\_\_。(1分)

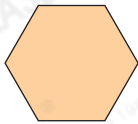




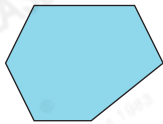
選出答案，把代表答案的○塗黑和塗滿。(3分，每題1分)

6. 下列哪個圖形有最多組平行線？

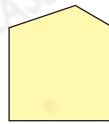
○ A.



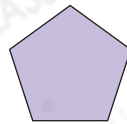
○ B.



○ C.




○ D.

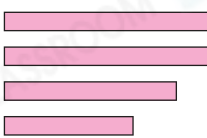


7. 下列哪組紙條不可以拼出一個梯形？

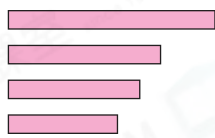
○ A.




○ B.



○ C.



○ D.



8. 李先生在 12:30 至 13:15 吃午飯，期間他接到一個電話，當時可能是什麼時間？

○ A. 12:45AM

○ B. 12:45PM

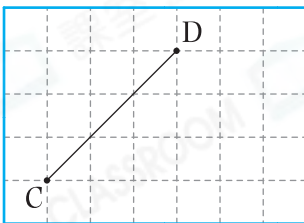
○ C. 1:20AM

○ D. 1:20PM




根據指示，在方格紙或釘板紙上繪圖。(3分，每題1分)

9. 在圖中加上一條與 CD 平行的直線。



10. 在圖中畫出一個有直角的梯形。



11. 在圖中加上三條直線，與原有的直線組成一個平行四邊形。

