

1

難度： 

下圖的數是國恒從水中看到的倒影，這個數的萬位和百位數字分別是什麼？



答案：萬位數字是\_\_\_\_\_，  
百位數字是\_\_\_\_\_。

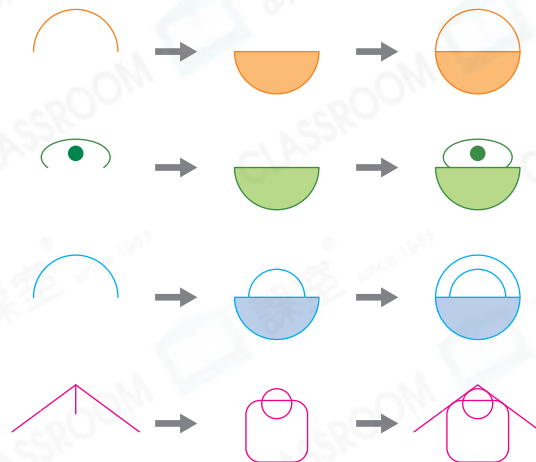
一別

你答對了嗎？

2

難度： 

下列哪幅圖的規律和其他的不同？把它圈出來。



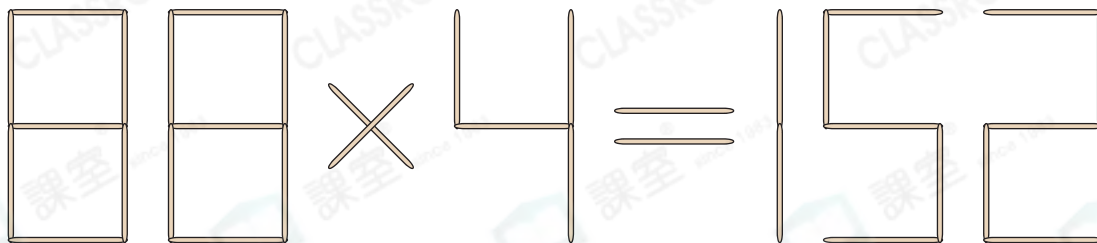
一別

你答對了嗎？

3

難度： 

下面是一道錯誤的算式，要移走其中兩根竹籤，算式才成立。圈出須移走的竹籤。



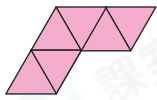
一別

你答對了嗎？

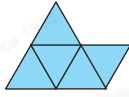
4

難度： 

下面哪三個圖可拼成一個平行四邊形？



A



B



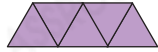
C



D



E



F

答案： \_\_\_\_\_


一剔

你答對了嗎？

5

難度： 

維德有一個天平和2g及7g的砝碼各一個。他要把140g的鹽分成90g和50g，最少須使用天平多少次？



答案： \_\_\_\_\_ 次

一剔

你答對了嗎？

6

難度： 

志堅有以下三種硬幣共14個，共值80元。其中2元和5元硬幣共值30元，其餘的都是10元硬幣。這三種硬幣分別有多少個？在硬幣下面寫出它們的數量。



\_\_\_\_\_ 個



\_\_\_\_\_ 個



\_\_\_\_\_ 個

一剔

你答對了嗎？