

梯形

姓名: _____

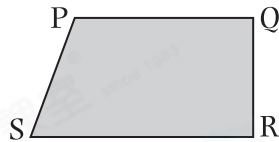
日期: _____

班別: _____

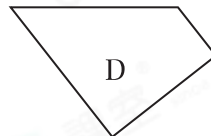
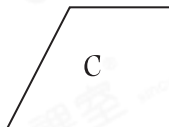
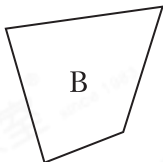
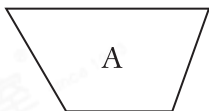
熱身練習

1. (a) 右圖是一個 _____ 形。

(b) 線段 _____ 是上底，線段 _____ 是下底，它們互相* 平行 / 垂直 (* 圈出答案)。



2. 觀察下面的圖形，寫出所有代表答案的英文字母。



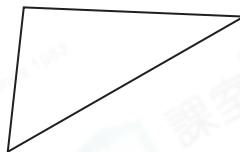
梯形: _____

3. 下列哪一個圖形只有一組對邊平行?

A.



B.



C.




D.



進階題

4. 鈺欣有以下三套竹籤。



竹籤套一



竹籤套二

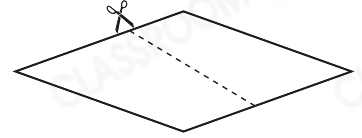


竹籤套三

她用竹籤套* 一 / 二 / 三 (* 圈出所有答案)可拼砌出一個梯形。

能力升級

5. 沿着虛線將右面的四邊形剪開，可以得到兩個什麼圖形？



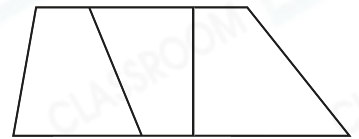
答案：_____形

6. 下列哪項/些關於梯形的描述必定是正確的？

- I. 任意一組鄰邊相等
- II. 最少有一個鈍角
- III. 只有一組對邊平行


答案：_____

7. 右圖中，共可數出梯形多少個？



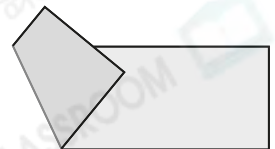
答案：_____個

8. 在下面的方格紙上畫出一個有直角的梯形。



進階題

9. 把一張手工紙對摺後，如右圖所示。沿摺痕剪開，可得到兩個圖形，它們不具備以下哪一種共同性質？



- A. 有兩個直角
- B. 只有一組對邊平行
- C. 有兩個鈍角
- D. 兩組鄰邊互相垂直