

考試

姓名：

日期：

班別：

總分：

練習 1 - 16

限時：30 分鐘

1. 下列哪個數的千位數字是「8」？

 A. 17865 B. 28034 C. 31480 D. 82567

2.



曉琪用左面的五張卡組成三個不同的五位數，然後把它們由大至小排列出來。第三個數是42150，在橫線上填上適當的數。

答案：_____，_____，42150
(最大) (最小)

3. $6 \times 138 =$ _____

4. $104 \times 3 \times 6 =$ _____

5. $93 \div 4 =$ _____

6. $298 \div 4 =$ _____

7. $135 \div 5 \div 9 =$ _____

8. 智慧小學舉行義工活動，一至六年級每級有32名學生參加。

(a) 智慧小學共有_____名學生參加義工活動。

(b) 老師將這些學生每9人分成一組，共可分成_____組，餘下_____人。

9. 花店店員一星期製作了98個花籃，平均每天製作花籃多少個？

 A. 16個 B. 15個 C. 14個 D. 13個

10. 店舖有 480 條毛巾，每 8 條包裝一袋，然後放進 5 個紙箱裏。平均每個紙箱有毛巾多少袋？(列式計算)

11. 一間營舍最多可住 8 人，現在要安排 90 名童軍入住營舍，最少需要 _____ 間營舍。

12. 一排菊花茶有 6 盒，超級市場上月售出 912 盒菊花茶。

(a) 超級市場上月共售出 _____ 排菊花茶。

(b) 上月售出的菊花茶中，一半是低糖菊花茶，即售出 _____ 排低糖菊花茶。

13. 國明有 140 元，他最多可購買原子筆多少枝？(列式計算)



14. 在下列各項填上適當的度量單位。

(a) 一枚金幣重約 7 _____。

(b) 一個嬰兒重約 8 _____。

(c) 指甲  闊約 10 _____。

(d) 跨海大橋  約長 2 _____。

15. 下列哪件物件最重？

A.



B.



C.




D.



16. 右面葡萄的重量是多少？

答案：_____

(答案須寫上單位)



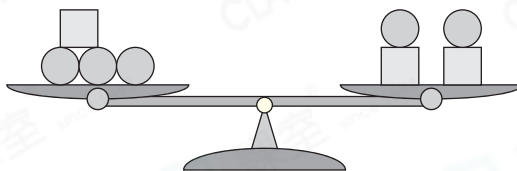
17. 細閱右圖，下列哪項是正確的？

A. ● 和 □ 的重量相等。

B. ● 比 □ 輕。

C. ● 比 □ 重。

D. 無法比較 ● 和 □ 的重量。



18. 下表是跨境巴士每天從九龍開出的時間表。

開出時間			
08:10	09:40	11:10	12:40
14:10	15:40	17:10	18:40

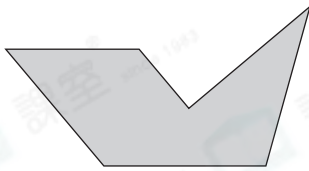
(a) 跨境巴士每_____分鐘從九龍開出一班。

(b) 最後一班車在* 上午 / 下午 (* 圈出答案) _____時
_____分開出。

19. 曉航在下午10時30分開始睡覺，8小時後起牀。用「24小時報時制」在右面數字鐘上寫出他起牀的時間。

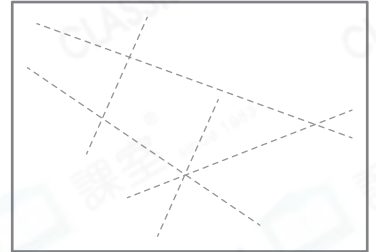


20.



左圖有_____組垂直線和_____組平行線。

21. 在右圖中沿虛線畫出一組平行線。



22. 觀察右面的平面圖形。

這是一個* 平行四邊形 / 長方形 / 五邊形
(* 圈出答案)，它有_____組對邊平行。



23. 下列哪一項描述是必定正確的？

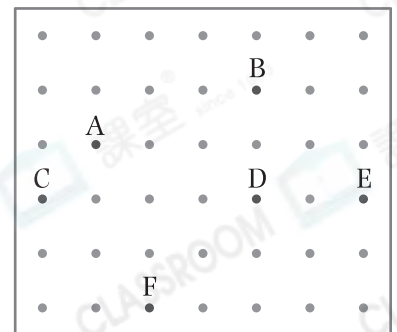
- A. 梯形有兩組對邊平行。
- B. 平行四邊形有四個直角。
- C. 平行四邊形的四條邊長度相等。
- D. 長方形和正方形都是平行四邊形的一種。

24. (a) 右圖中，淑怡用橡皮圈把A、C、D和F點圍起來，會圍出一個什麼圖形？

答案：_____形

(b) 她把橡皮圈由A點移往B點，D點移往E點，將會圍出一個什麼圖形？

答案：_____形



— 全卷完 —