



# 3 毫米


日期

成績



## 鞏固訓練

根據實物，填上合適的長度單位：「厘米」、「米」或「毫米」。



在橫線上填答案。

4. 2 厘米 = \_\_\_\_\_ 毫米

5. 760mm = \_\_\_\_\_ cm

6. 15 厘米 7 毫米 = \_\_\_\_\_ 毫米

7. 6cm3mm = \_\_\_\_\_ mm

量度下列各物件的長度。



\_\_\_\_\_ 毫米



\_\_\_\_\_ 毫米



## 題型突破

10. 下列哪項最適合用「毫米」作為量度單位？

A. 書桌的闊度

B. 山的高度

C. 牀的長度

D. 擦膠的厚度

11. 滑鼠闊 6 厘米 5 毫米，即闊 \_\_\_\_\_ 毫米。


12. 右圖是靜萱的蠟筆，它的長度是多少？

A. 7mm

B. 7m

C. 70mm

D. 70cm

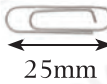


13. 容華有一張長 32mm 和闊 25mm 的貼紙。以下哪張貼紙是她的？  
(圈出答案)




CLASSROOM Educator

利用直尺分別量度  
三張貼紙的長度和  
闊度。

14. 子瑜用  來量度各物件的長度，結果如下：




- (a) 湯匙長 \_\_\_\_\_ 個 ，即長 \_\_\_\_\_ 厘米。  
(b) 湯匙比餐刀 \* 長 / 短 (\* 圈出答案) \_\_\_\_\_ 毫米。
15. 妹妹估計髮夾長 4cm，用直尺量度後發現實際的長度比估計的長 7mm，髮夾實際長 \_\_\_\_\_ mm。

### 跨課題專區

16. (a) 右圖是一個 \* 三角形 / 四邊形 / 五邊形。  
(\* 圈出答案)

- (b) 用直尺量度右圖最長的一條邊的長度。這條邊的長度是 \_\_\_\_\_ mm。



17.



- (a) 上圖中，每個硬幣的闊度是 \_\_\_\_\_。(答案須寫上單位)  
(b) 把上圖的三個硬幣整齊地疊起來，會砌出哪種立體圖形？

答案：\_\_\_\_\_