

單元小測(一)

試前衝刺



日期

限時：20分鐘

練習 1 - 3



12分鐘

回答下列各題。(11分)

1. 在 90416 這個數中，數字「9」是在
* 個位 / 十位 / 百位 / 千位 / 萬位。(1分)
(* 圈出答案)

2. 用中國數字寫出「42007」這個數。(1分)

答案：_____

3.



康生用上面的五張數字卡組成三個不同的五位數，然後把它們由大至小排列。第一個是 50316，在橫線上填上適當的數。(1分)

答案：50316， _____， _____
(最大) (最小)

4. 寫出一個比 39421 大，又比 40298 小的單數。(1分)

答案：_____

5. 從 20001 開始倒數，第六個數是 _____。(1分)

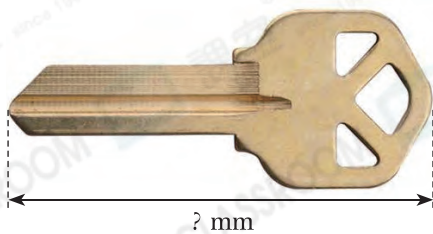
6. 在下列各項填上合適的度量單位。(3分，每分題1分)

(a) 大老山隧道約長 4 _____。

(b) 一塊擦膠約長 40 _____。

(c) 廣九鐵路線路約長 183 _____。

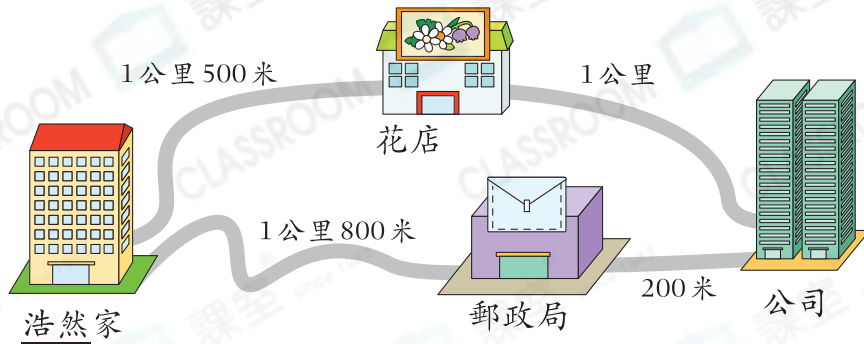
7. 用直尺量度下圖鑰匙的長度。(1分)



它的長度是 _____ mm。



8.



- (a) 浩然家到花店的路程是_____米。(1分)
- (b) 浩然從家出發經過_____到公司的路程較近，全程須走_____米。(1分)



5分鐘

選出答案，把代表答案的○塗黑和塗滿。(4分，每題1分)

9. 下列哪個數的萬位數字是「5」，而百位數字是「2」?

- A. 57214 B. 23560 C. 54028 D. 25311

10. 在12898這個數中，兩個「8」的數值相差多少?

- A. 0 B. 72 C. 99 D. 792

11. 一枝牙籤約長62

- A. mm。 B. cm。 C. m。 D. km。

12. 青馬大橋約長多少?

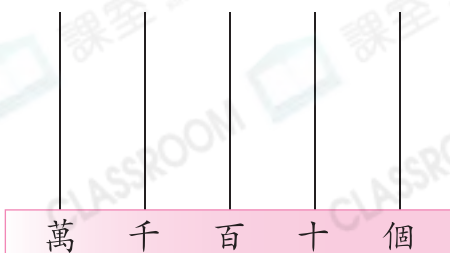
- A. 22m B. 220m C. 2km D. 2000km



3分鐘

在算柱上畫算珠，表示下列各數。(2分，每題1分)

13. 31572



14. 60405

