



7 時間應用題

日期

成績



鞏固訓練


在橫線上填上正確答案。

1.



媽媽吸塵共用了_____分鐘。

2.



27分鐘後



子浩在_____時_____分開始吃早餐。



題型突破

3.

開始時間



結束時間



上圖分別顯示忠偉開始和結束寫作文的時間。他寫作文用了多少時間？

A. 24分鐘

B. 26分鐘

C. 34分鐘


D. 44分鐘

4. 右圖時鐘顯示手工課開始上課的時間。若

手工課長50分鐘，即下課時間是什麼？


答案：_____時_____分



5. 表哥在  到達體育館打球。建文比表哥早到了21分鐘。建文在_____午_____時_____分到達體育館。

6. 以下是動物園內「鸚鵡表演」的開始時間。

	開始時間
第一場	2:27 p.m.
第二場	3:20 p.m.

(a) 美珍在  到達動物園，那時第一場「鸚鵡表演」已經開始了_____分鐘。

(b) 國明到達動物園時，還有25分鐘第二場「鸚鵡表演」才會開始，國明在_____午_____時_____分到達動物園。

跨課題專區

7. 右圖手錶顯示的時間比實際時間慢了3分鐘。

(a) 實際時間是什麼？

答案：_____時_____分

(b) 再過13分鐘，右圖手錶的時針和分針將形成一個* 銳角 / 直角 / 鈍角。(* 圈出答案)



8.



今天是4月17日，鋼琴比賽在四天前舉行。



曉東

(a) 鋼琴比賽在星期_____舉行。

(b) 鋼琴比賽在9:16 a.m. 開始。曉東從家到比賽地點用了半小時，並在比賽開始前15分鐘到達。曉東在上午_____時_____分從家出發。