

單元小測(二)

試前衝刺



日期

限時：20分鐘

練習 5 - 7



回答下列各題。(7分)

1. 超級市場大減價，媽媽以特價買了3盒巧克力，共節省了_____元。(1分)



2.

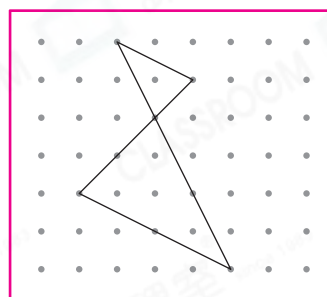


把上面的長方形沿虛線剪開後，可得到一個_____三角形。(1分)

3. 家輝用橡皮圈在釘板上圍出兩個

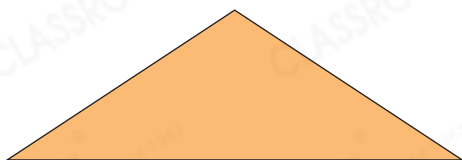
* 直角 / 等邊 / 等腰 三角形。(1分)

(* 圈出答案)



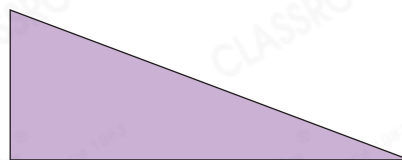
4. 寫出下列三角形的名稱。(2分，每分題1分)

(a)



答案：_____三角形

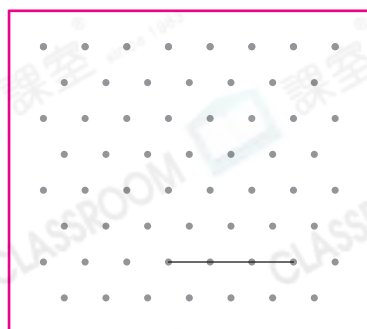
(b)



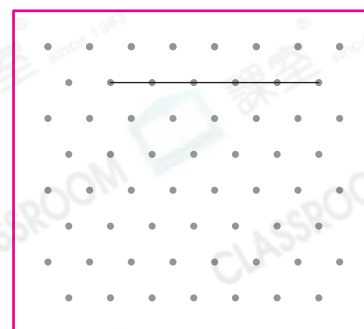
答案：_____三角形

5. 在下圖中加上兩條直線，完成指定的三角形。(2分，每分題1分)

(a) 直角三角形



(b) 等邊三角形



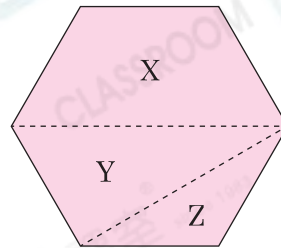


3分鐘

選出答案，把代表答案的○塗黑和塗滿。(3分，每題1分)

6. 右面的六邊形各邊長度相等，沿虛線剪開後，圖形Z是哪一種平面圖形？

- A. 梯形 ○B. 長方形
○C. 直角三角形 ○D. 等腰三角形



7. 下列哪一項必定是錯誤的？

- A. 等腰三角形是等腰直角三角形的一種。
○B. 等邊三角形是等腰三角形的一種。
○C. 不等邊三角形可能有一個鈍角。
○D. 直角三角形不可能有一個鈍角。

8. 一個三角形的兩條邊分別長5cm和10cm，第三邊可能長

- A. 4cm。 ○B. 5cm。 ○C. 9cm。 ○D. 16cm。



5分鐘

列式計算下列各題。(6分，每題3分)

9. 今天是家豪的12歲生日，爸爸和媽媽帶家豪和一對6歲雙胞胎妹妹去遊樂場，他們共須付多少元？

遊樂場

小童門票
(11歲或以下)

每張188元

成人門票

每張258元

10. 西餅店原有95公斤白砂糖，平均每天用去3公斤。兩個星期後，餘下白砂糖多少？