



9 分數的認識

日期

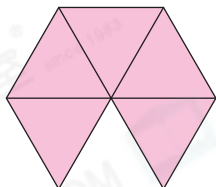
成績



鞏固訓練

下列各圖着色部分佔全圖的幾分之幾？寫出分數及讀法。

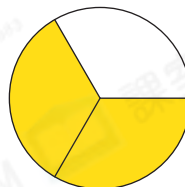
1.



(a) 分數：_____

(b) 讀法：_____

2.




(a) 分數：_____

(b) 讀法：_____

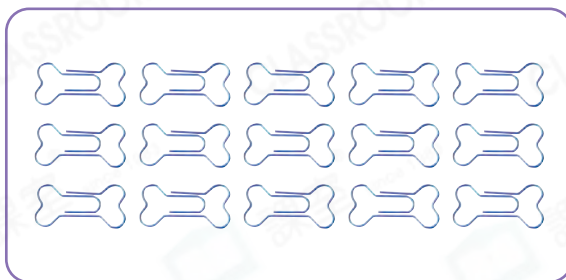
依指示圈出物件，並在橫線上填上答案。

3.



12 的 $\frac{1}{4}$ 是_____。

4.



15 的 $\frac{2}{5}$ 是_____。



題型突破

5.

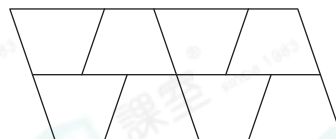


代表 1。



代表_____。
(以分數作答)

6. 用鉛筆塗黑右面的梯形，使黑色部分佔全圖的 $\frac{3}{8}$ 。



7. 在空格內填上適當的數字。

(a) $1 = \frac{\square}{6}$

(b) $\frac{8}{8} = \frac{9}{\square}$

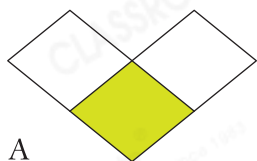
8. 一個月餅平均分成5件，三姐妹各吃了一件，即共吃了_____分之_____個月餅。

9. 甜品師傅做了4個草莓蛋糕和7個巧克力蛋糕。

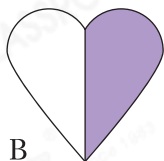


甜品師傅做的巧克力蛋糕佔全部蛋糕的_____。(以分數作答)


10. 觀察以下圖形，寫出所有代表答案的英文字母。



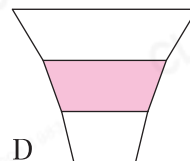
A



B



C



D

(a) 圖_____的着色部分佔全圖的 $\frac{1}{3}$ 。

(b) 上圖中，哪兩個圖的着色部分佔全圖的分數是相同的？

答案：_____和_____

11. 下面有16個盒子，其中 $\frac{3}{8}$ 放了玩具，5個放了衣服。



(a) 有_____個盒子放了玩具。

(b) 放了衣服的盒子佔全部盒子的_____。(以分數作答)

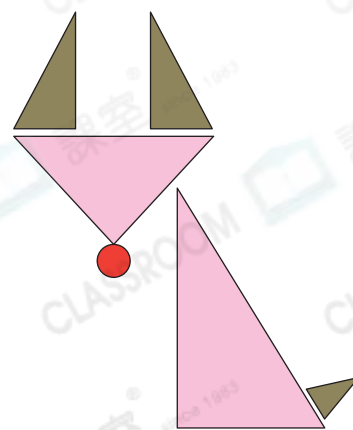
跨課題專區

12. 右面是姊姊設計的圖案。

(a) 右圖由一個圓形、兩個_____三角形和三個_____三角形組成。

(b) 三角形的數量比圓形的多佔全部圖形的幾分之幾？

答案：_____



前往P.44查看同類型易錯題分析