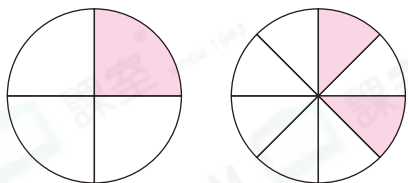




鞏固訓練

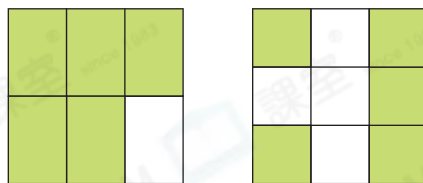
在空格內填上適當的數字，圓圈內填上「>」、「<」或「=」。

1.



$$\frac{\boxed{}}{4} \bigcirc \frac{2}{\boxed{}}$$

2.



$$\frac{\boxed{}}{\boxed{}} \bigcirc \frac{\boxed{}}{\boxed{}}$$

根據指示，圈出答案。

3.

最大的

$\frac{1}{7}$

$\frac{4}{7}$

$\frac{3}{7}$

4.

最小的

$\frac{5}{9}$

$\frac{5}{8}$

$\frac{5}{11}$

$\frac{5}{13}$



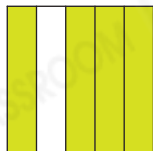
題型突破

5. 下列哪個圖的着色部分大於全圖的 $\frac{4}{6}$?

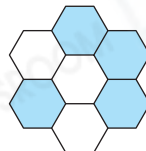
○ A.



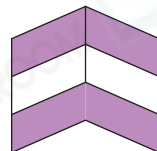
○ B.



○ C.



○ D.



6. (a) $\frac{9}{9}$ * 大於 / 等於 / 小於 9。
(* 圈出答案)

(b) 在空格內填上適當的數。

$$\frac{8}{12} \text{ 比 } \frac{8}{\boxed{}} \text{ 大。}$$

7. 把下列分數由小至大排列。

$$\frac{1}{10}, \frac{2}{7}, \frac{1}{7}$$

答案：_____，_____，_____。
(最小) (最大)

CLASSROOM Educator

先比較分母相同的分數，
再比較分子相同的分數。

8. 下列哪個分數的值最大？

○ A. $\frac{7}{12}$ ○ B. $\frac{6}{13}$ ○ C. $\frac{7}{13}$ ○ D. $\frac{11}{12}$

9. 下列哪個分數的數值最接近1？(圈出答案)



10. 一本故事書，家文看了 $\frac{2}{8}$ 本，家輝看了 $\frac{3}{8}$ 本，而家恩看了 $\frac{3}{5}$ 本。在這本故事書中，* 家文 / 家輝 / 家恩 看了最多。(*圈出答案)

11. 以下三個分數是由大至小排列的，在空格裏的數可能是什麼？
(寫出所有答案)

$$\frac{12}{23}, \frac{\boxed{?}}{23}, \frac{9}{23}$$

(最大) (最小)

答案：_____



跨課題專區

12. 花兒交響樂團在音樂廳舉行音樂會。貴賓席佔全部座位的 $\frac{1}{7}$ ，公眾席佔全部座位的 $\frac{6}{7}$ ，而在公眾席中有 $\frac{1}{3}$ 是學生席。

(a) 在音樂廳中，* 貴賓席 / 公眾席 的座位較多。(*圈出答案)

(b) 貴賓席票價比公眾席的貴120元，
陸先生買貴賓席門票和公眾席門票
各一張，共須付多少元？

答案：_____元

| 座位 | 票價(每張) |
|-----|--------|
| 貴賓席 | 300元 |
| 公眾席 | |