

# 單元小測(三)

試前衝刺



日期

限時：20分鐘

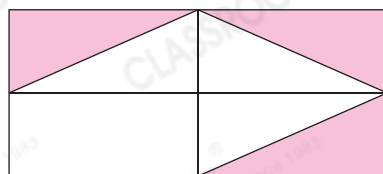
練習 9 - 11



回答下列各題。(9分)

1. 右圖着色部分佔全圖的幾分之幾？(1分)

答案：\_\_\_\_\_



2. 在空格內填上適當的數。(2分，每分題1分)

(a) 1 等於  $\frac{\square}{\square}$ 。

(b)  $\frac{5}{9}$  比  $\frac{\square}{\square}$  大。


3. 媽媽買了10條香腸。



辣味



芝士味



原味



蔬菜味

(a) 原味香腸佔全部香腸的幾分之幾？(1分)

答案：\_\_\_\_\_

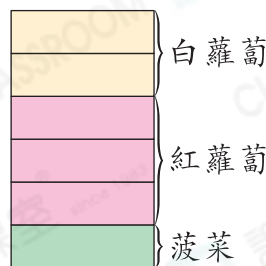
(b) 弟弟吃了全部香腸的  $\frac{1}{5}$ ，即吃了\_\_\_\_\_條。(1分)

4. 陸運會的長跑比賽中，詩語已跑了全程的  $\frac{2}{15}$ ，雅文已跑了  $\frac{1}{15}$ ，月怡已跑了  $\frac{2}{5}$ 。\* 詩語 / 雅文 / 月怡 (\*圈出答案)距離終點最遠。(1分)

5. 有一塊土地， $\frac{2}{6}$ 種植白蘿蔔， $\frac{3}{6}$ 種植紅蘿蔔，餘下的種植菠菜。(以分數作答)

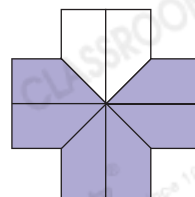
(a) 種植蘿蔔的土地佔這塊土地的\_\_\_\_\_。(1分)

(b) 種植菠菜的土地佔這塊土地的\_\_\_\_\_。(1分)



6. 右圖着色部分佔全圖的幾分之幾？(1分)

答案：\_\_\_\_\_ = \_\_\_\_\_





5分鐘

選出答案，把代表答案的○塗黑和塗滿。(3分，每題1分)

7. 下列哪個分數最小？

A.  $\frac{2}{13}$

B.  $\frac{3}{10}$

C.  $\frac{2}{11}$

D.  $\frac{3}{11}$

8.

支出	課外書	零食	文具	儲蓄
佔零用錢的	$\frac{1}{5}$	$\frac{1}{20}$	$\frac{3}{5}$	$\frac{3}{20}$

上表是姊姊上月零用錢的支出分布。她在哪個項目支出最多？

A. 課外書

B. 零食

C. 文具

D. 儲蓄

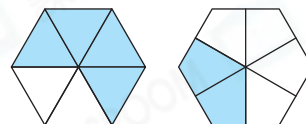
9. 如果每個六邊形表示1，右面兩個圖形的着色部分表示的值相加後是多少？

A.  $\frac{2}{6}$

B.  $\frac{1}{2}$

C.  $\frac{4}{6}$

D. 1



5分鐘

列式計算下列各題。(6分，每題3分)

10. 手機剛充電完畢的電池電量是 。下圖顯示致遠開始和結束玩手機時的電池電量。致遠玩手機用去電量的幾分之幾？



開始



結束



11. 果盤裏有 ，菠蘿和梨共佔全部水果的幾分之幾？

