



12 容量的認識

日期

成績



鞏固訓練

圈出答案。

1.



(藍色 / 綠色 / 黃色) 容器的容量最小。

2.



紅色盆子的容量比藍色盆子的 (大 / 小)。

3.



有 (兩個 / 三個 / 四個 / 五個) 碗的容量比紅色碗的容量小。



題型突破

4. 下列哪種物件不是容器？

A.



B.



C.



D.



5. 下列哪項最適合用來量度一個礦泉水瓶的容量？

A.



B.



C.



D.



6.

A



B



C



把上面三個物件的容量由小至大排列出來。(寫出代表答案的英文字母)

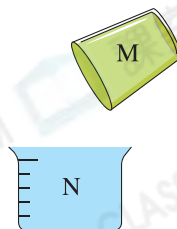
答案：_____，_____，_____

(最小)

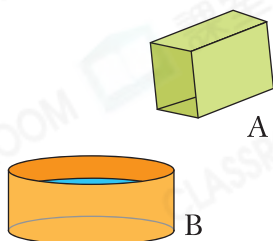
(最大)

7. 把容器M注滿水，然後把全部水倒進容器N裏。下列哪項是正確的？

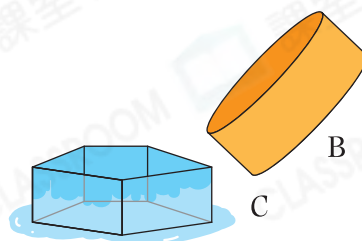
- A. N的容量較大。
- B. M的容量較大。
- C. M和N的容量相等。
- D. 無法比較M和N的容量。



8. 少傑把容器A注滿水，然後把全部水倒進空的容器B裏，如圖一所示。



圖一





圖二

他再把容器B的水倒入空的容器C裏，如圖二所示。

容器A的容量* 小於 / 等於 / 大於 容器C的容量。(*圈出答案)

9. 盛滿水的  剛好注滿 ，盛滿水的  剛好注滿 ，

盛滿水的  剛好注滿 _____ 個 。

跨課題專區

10.



爸爸把小花瓶和大花瓶注滿水，再把水分別倒入兩個大小相同的量杯中，如上圖所示。

(a)  的容量* 大於 / 等於 / 小於  的容量。(*圈出答案)

(b) 小花瓶的容量是大花瓶的幾分之幾？

答案：_____