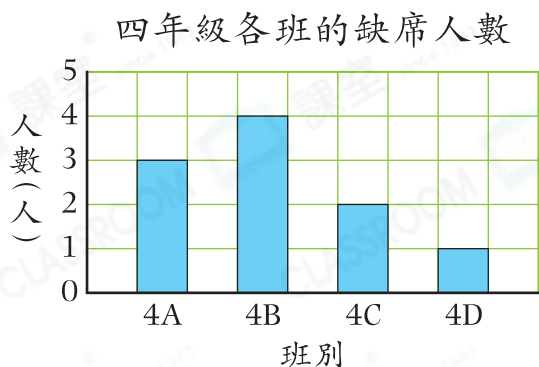




## 鞏固訓練

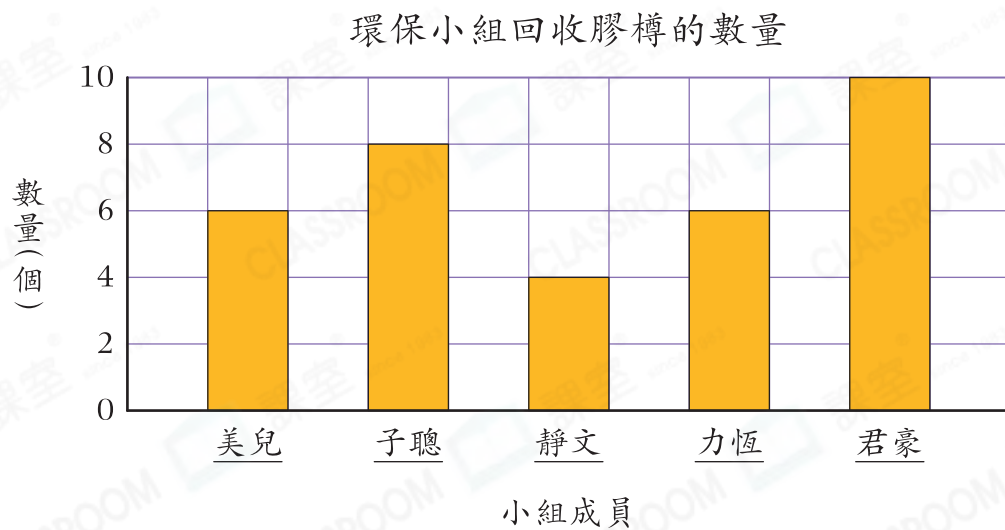
閱讀右面的棒形圖，回答下列各題。

1. 圖中每格代表\_\_\_\_\_人。
2. 4C班有\_\_\_\_\_人缺席。
3. \_\_\_\_\_班缺席的人數最多，共有\_\_\_\_\_人。



## 題型突破

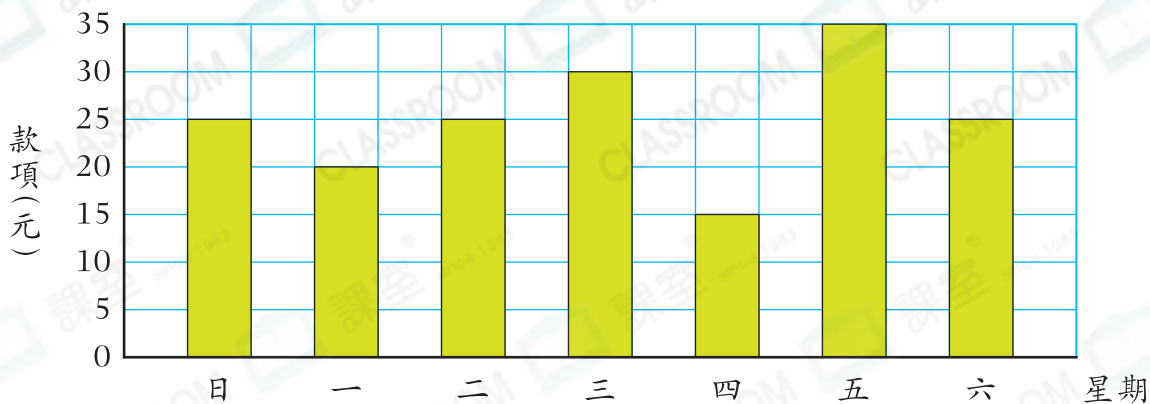
4. 以下棒形圖顯示環保小組回收膠樽的數量。



- (a) \_\_\_\_\_和\_\_\_\_\_收集膠樽的數量相同，各收集了\_\_\_\_\_個。
- (b) 子聰收集的膠樽比君豪收集的\* 多 / 少 \_\_\_\_\_個。  
(\* 圈出答案)
- (c) 子聰收集的膠樽是哪名小組成員收集的2倍？  
答案：\_\_\_\_\_
- (d) 環保小組共收集了\_\_\_\_\_個膠樽。

5. 以下棒形圖顯示欣薇上星期的儲蓄情況。

欣薇上星期的儲蓄情況

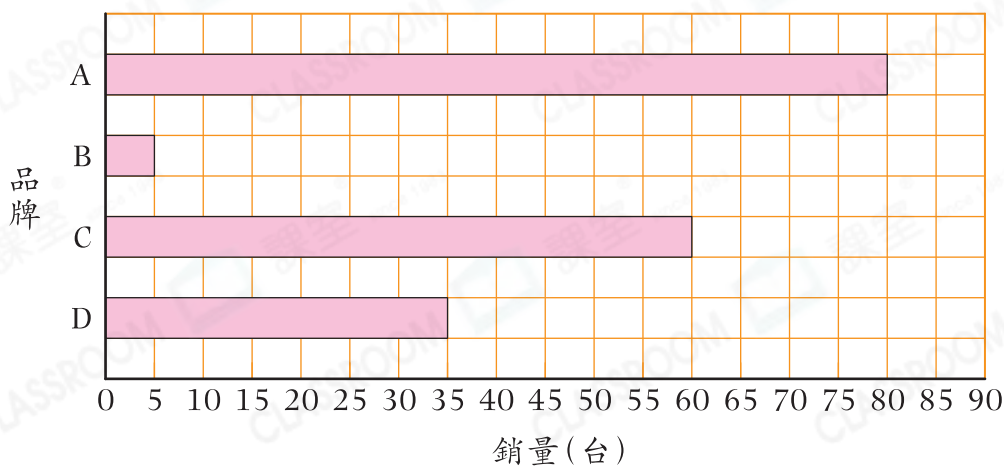


- (a) 星期一和星期四兩天儲蓄的總和等於星期\_\_\_\_\_儲蓄的款項。
- (b) 星期\_\_\_\_\_儲蓄的款項最少，儲蓄了\_\_\_\_\_元。
- (c) 欣薇星期二儲蓄了\_\_\_\_\_元，比星期\_\_\_\_\_多儲蓄5元。

 **跨課題專區**

6. 下圖顯示家家電器店四月份各款風扇的銷量。

家家電器店四月份各款風扇的銷量



- (a) 如果每台品牌B風扇售328元，家家電器店四月售賣品牌B風扇共收得\_\_\_\_\_元。
- (b) 家家電器店的店主打算停止銷售其中一個品牌的風扇，根據上圖顯示的銷量情況，他應該選擇品牌\_\_\_\_\_風扇，因為\_\_\_\_\_。