



1 圓括號的認識

日期

成績



鞏固訓練

計算下列各題。

1. $135 - (26 + 45)$

= $135 -$ _____

= _____

2. $198 - (253 - 106)$

= $198 -$ _____

= _____

3. $61 + (96 - 50) =$ _____

4. $201 + (59 + 82) =$ _____

5. $372 - (163 + 55) =$ _____

6. $145 + (103 - 19) =$ _____



題型突破

7. 下列哪道算式的值與 $52 - (27 + 18)$ 的相同？

A. $52 - 27 + 18$

B. $52 - 27 - 18$

C. $52 + (27 - 18)$

D. $52 + 27 + 18$

8. 花店原有 230 枝黃玫瑰和 145 枝紅玫瑰，售出 66 枝紅玫瑰後，花店現有玫瑰多少枝？

答案：_____ 枝

9. 媽媽高 165cm，爸爸高 180cm。佳雯比爸爸矮 22cm，媽媽比佳雯高

_____ cm。

10. 以下是長河小學一至三年級的學生人數。

年級	一年級	二年級	三年級
學生人數	104	139	?

(a) 一至三年級共有 350 名學生，三年級有 _____ 名學生。

(b) 學校有 220 本練習簿，給一、三年級的學生每人分發一本練習簿，

* 還欠 / 還餘 (* 圈出答案) _____ 本練習簿。



應用題研習

11. 雙層巴士上層有 57 個座位，下層有 44 個座位。雙層巴士有企位多少個？



限載
130 名乘客

12. 學校舉行文藝表演，出席的學生有 386 人，比出席的家長多 192 人。出席的學生和家長共有多少人？



13. 陳太太以特價購買一個原價 598 元的手袋。她付一張 500 元紙幣，找回 93 元。陳太太節省了多少元？



CLASSROOM Educator


先找出售價。
售價 = 付款 - 找回款項




跨課題專區

14.

200 個





125 個





知識重現

2上 立體圖形

角錐的側面是三角形。
角柱的側面是四邊形。

(a) 糖果店原有以上的盒子，包裝糖果用去全部 ，但餘下 92 個 。用去的兩種盒子數量相差 _____ 個。

(b) *  /  (*圈出答案)的側面是三角形。