

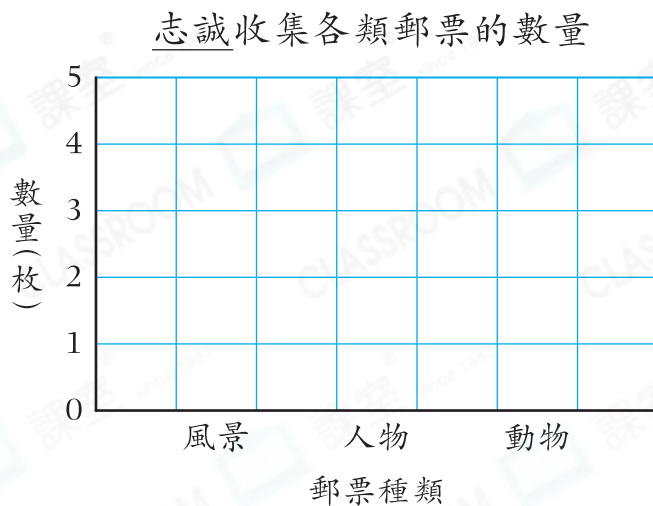


## 鞏固訓練

下表顯示志誠收集各類郵票的數量。根據下表，製作棒形圖。

1.

郵票種類	數量(枚)
風景	4
人物	5
動物	3



## 題型突破

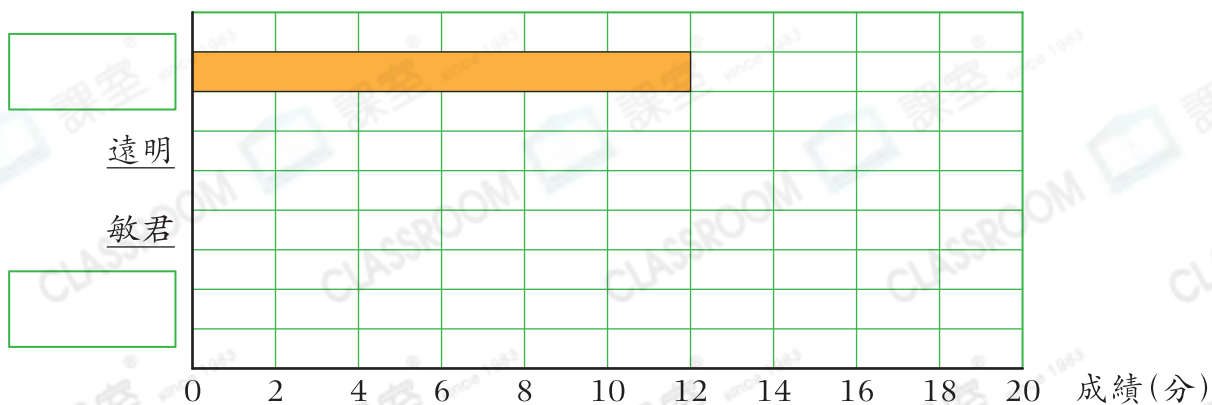
2. 張老師統計了四名學生參加數學競賽的成績。

(a) 根據統計記錄，完成下表。

學生	國霖	遠明	敏君	東誠
記數	+++ +++ 	+++ +++ +++	+++ +++ 	+++ +++ +++
成績(分)				

(b) 根據統計結果，完成以下棒形圖。

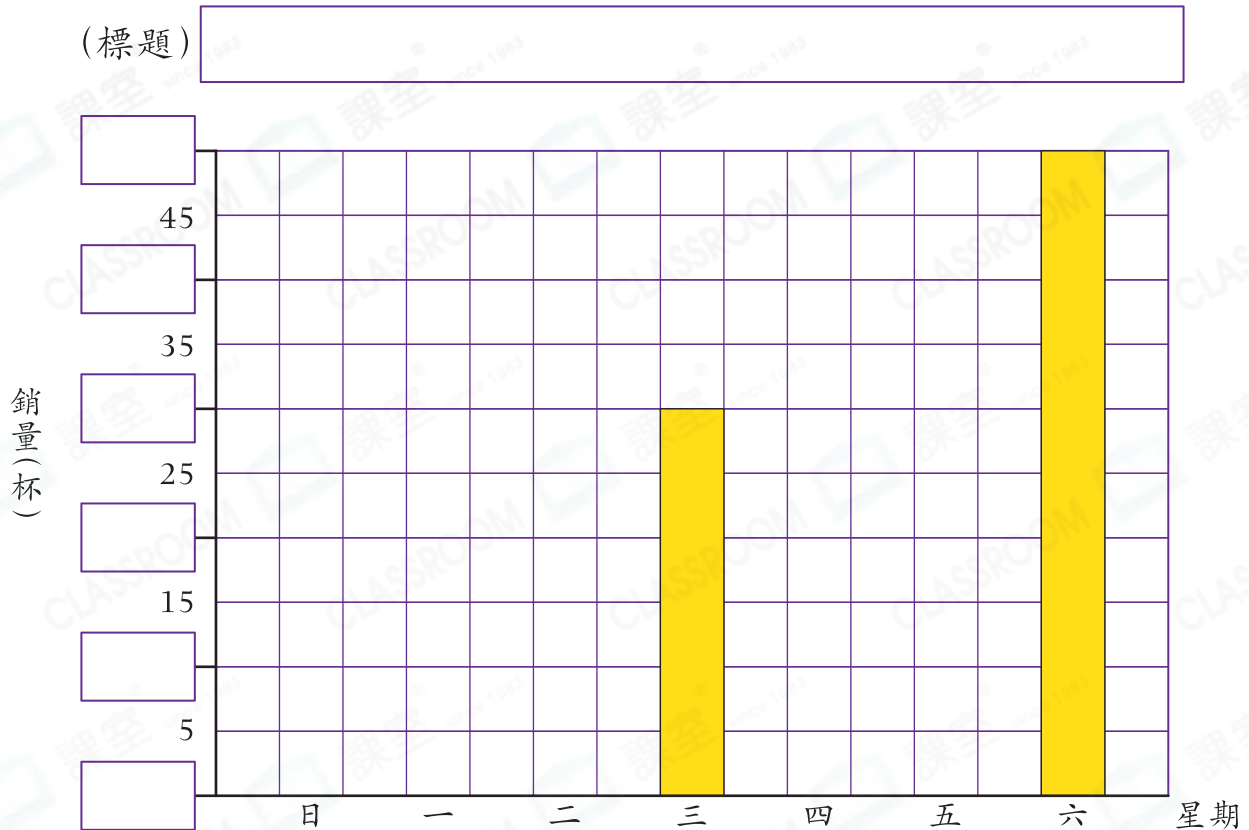
四名學生參加數學競賽的成績



3. 下表顯示可口飲品店上星期橙汁的銷量。

星期	日	一	二	三	四	五	六
銷量(杯)	45	25	20	30	40	35	50

根據上表資料，完成棒形圖，並加上標題。



### 跨課題專區

4. 根據上圖，

- 星期\_\_\_\_\_的橙汁銷量是星期一的兩倍。
- 上星期有\_\_\_\_\_天橙汁的銷量多於35杯。
- 哪連續兩天橙汁的銷量相差最多？

答案：星期\_\_\_\_\_和星期\_\_\_\_\_

- 每杯橙汁的原價是25元。星期二以特價21元5角出售，星期二售出橙汁的總收入比原價售出少了\_\_\_\_\_元\_\_\_\_\_角。



2下 貨幣計算

元	角
7	0
-	4 8 4
2	1 6

元、角的減法運算和普通減法相同。

前往P.45查看同類型易錯題分析