

棒形圖 (一)

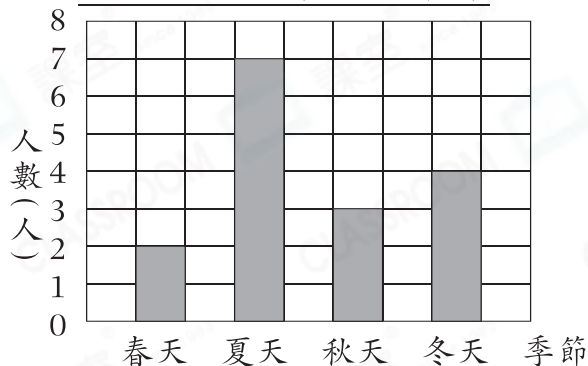
姓名: _____

日期: _____

班別: _____

熱身練習

1. 3A班女生最喜愛的季節



(a) * 縱軸 / 橫軸 (*圈出答案)
代表人數。

(b) * 縱軸 / 橫軸 (*圈出答案)
代表季節。

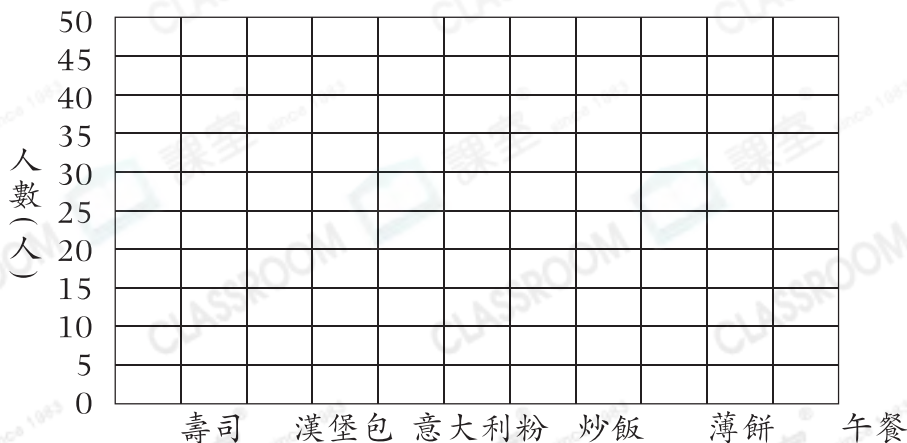
(c) 左面的棒形圖每一格代表 _____ 人。

2. 老師統計了三年級學生最喜愛的午餐，每名學生只可選擇一款午餐。

午餐	壽司	漢堡包	意大利粉	炒飯	薄餅
人數(人)	50	35	20	10	25

根據上表的數據，完成以下的棒形圖，並填上標題。

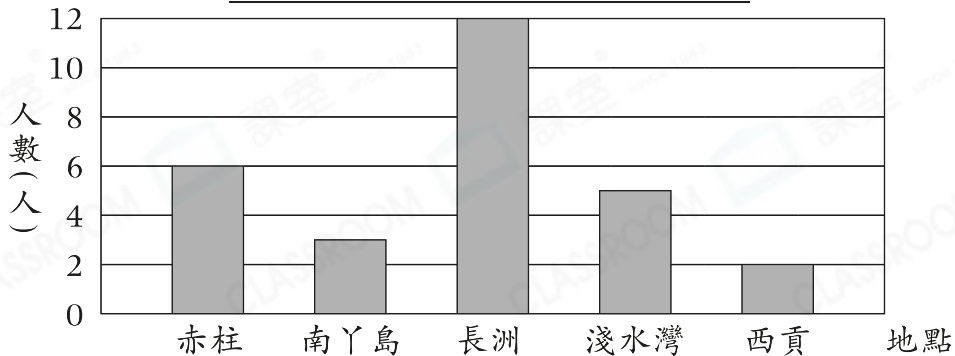
(標題)



能力升級

3. 以下是長河公司員工選擇的旅行地點。

長河公司員工選擇的旅行地點



- (a) 最少員工選擇的旅行地點是_____，只有_____人。
- (b) 選擇赤柱的人數是選擇南丫島的_____倍。
- (c) 長河公司打算為員工安排旅行地點，根據上圖的統計情況，老闆應選擇哪個地點？為什麼？

答案：老闆應選擇_____，因為_____。

進階題

4. (a) 哪種硬幣的數量最多？

答案：_____硬幣

(b) 哪種硬幣的總值最多？

答案：_____硬幣

(c) 敏君賣旗共籌得多少元？

答案：_____元

敏君賣旗籌得的款項

