

考試

姓名：

日期：

班別： ()

總分： /30

練習 1 - 7, 9 - 15

限時：30分鐘

1. 三個五位數由小至大排列如下：

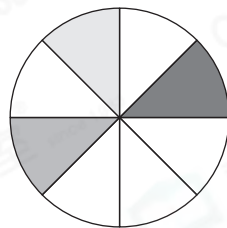
32087, , 33697
(最小) (最大)

在空格裏填上適當的數。

2. $(125 - 66) \times 4 =$ _____

3. $1327 - 555 + 283 =$ _____

4. 一個蘋果批，三兄妹各吃了 $\frac{1}{8}$ 個，他們共吃了蘋果批多少個？
(列式計算)



5. 桌上有18枝螢光筆，其中 $\frac{1}{3}$ 是黃色，2枝是綠色。

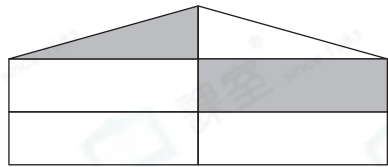


(a) 黃色的螢光筆有 _____ 枝。

(b) 綠色的螢光筆佔全部螢光筆的 _____。(以分數作答)

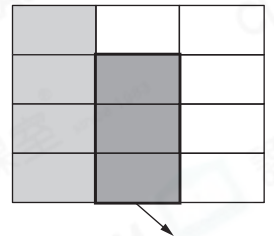
6. $\frac{6}{7}$ * 大於 / 等於 / 小於 (*圈出答案)6。

7. 用鉛筆把右圖的 $\frac{7}{10}$ 塗上陰影。



8. 花園裏，月季花佔全部鮮花的 $\frac{2}{7}$ ，玫瑰花佔全部的 $\frac{1}{7}$ ，菊花佔全部的 $\frac{2}{5}$ 。最多的是* 月季花 / 玫瑰花 / 菊花 (*圈出答案)。

9. 一張包裝紙，依琳用了一些後，餘下 $\frac{7}{12}$ 張。依芸再用了 $\frac{3}{12}$ 張後，最後餘下包裝紙多少張？(列式計算)



10.



每張 \$8
3張特價 \$18



每本 \$28

致遠買了6張書籤和3本筆記簿，最少須付款_____元。

11. 星期六到沙灘遊玩的遊客有4108人，星期日的遊客比星期六的少1450人，兩天共有遊客_____人。

12. 在下列各項填上適當的度量單位。

(a) 一幢大廈的高度約是66_____。

(b) 一個水杯的容量約是150_____。

(c) 一台冰箱的容量約是182_____。

13. 把容器M和N分別注滿水，然後分別把全部水倒進空的容器O裏。

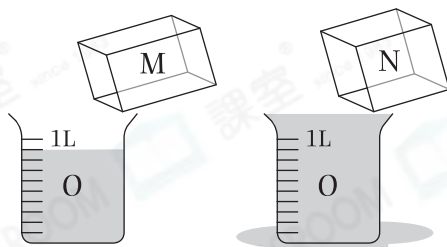
(a) 容器N的容量

* 小於 / 等於 / 大於

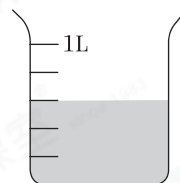
(* 圈出答案) 1000mL。

(b) 把M、N、O三個容器的容量由小至大排列出來。(寫出所有代表答案的英文字母)

答案：_____， _____， _____
(最小) (最大)



14. 右面的容器已盛了一些水，如果需要盛水至1L，需要再注入_____mL水。



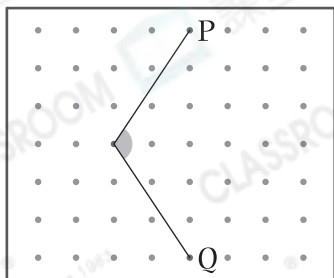
15. 盛滿水的  剛好注滿 ，盛滿水的  剛好注

滿 。盛滿水的  剛好注滿 _____ 個 。

16. 佳倩用三枝竹籤拼出了一個三角形，其中兩枝竹籤的長度分別是6cm和12cm。下列哪一項**不可能**是另外一枝竹籤的長度？

- A. 12cm B. 10cm C. 8cm D. 6cm

17.



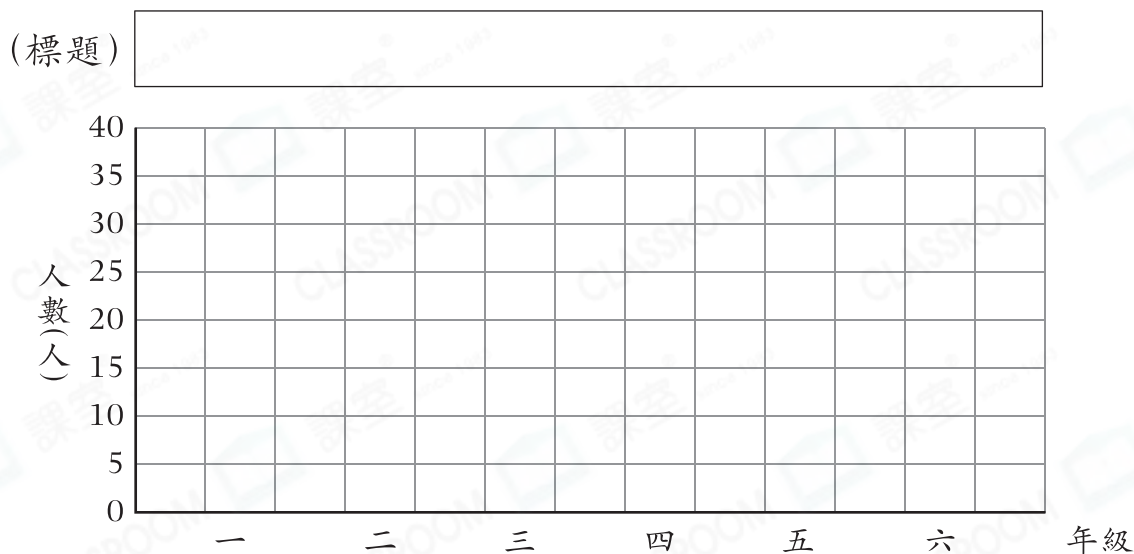
(a) 左圖是一個_____角。

(b) 用直線把P點和Q點連起來，可形成一個* 直角 / 等腰 / 等邊三角形。(* 圈出答案)

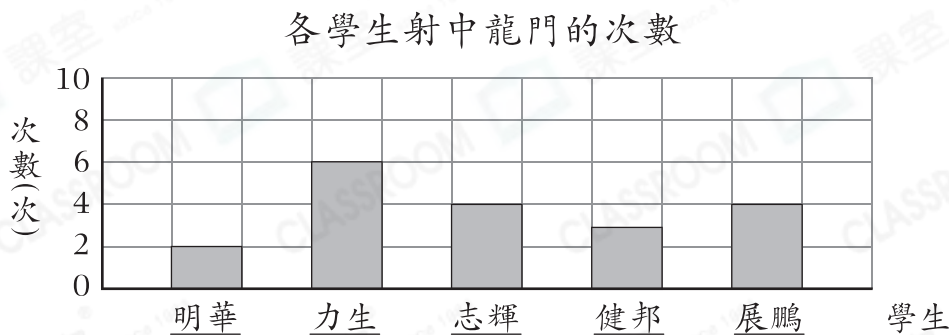
18. 下表顯示長河小學各年級配戴眼鏡的學生人數。

年級	一年級	二年級	三年級	四年級	五年級	六年級
人數(人)	5	10	15	25	40	35

根據統計結果，完成以下棒形圖，並加上標題。



19. 足球隊正在選拔新隊員，下圖顯示各學生射中龍門的次數。



(a) _____ 和 _____ 射中龍門的次數相等。

(b) 學生要加入足球隊，最少須射中龍門4次。

* 明華 / 力生 / 志輝 / 健邦 / 展鵬 可以加入足球隊。

(* 圈出所有答案)

— 全卷完 —