

單元小測(二)

試前衝刺



日期

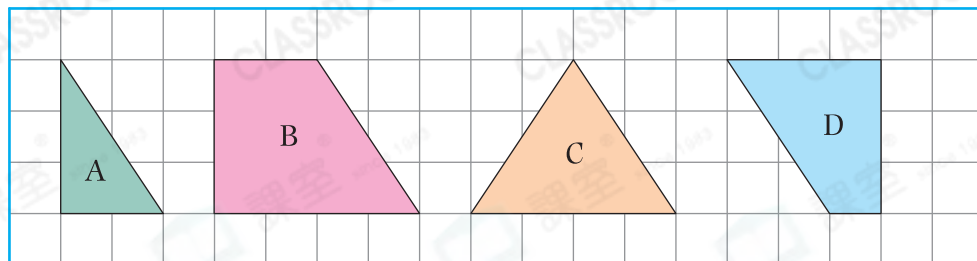
限時：20分鐘

練習 6 - 8



回答下列各題。(8分)

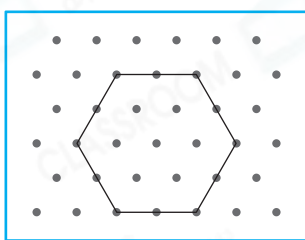
1.



- (a) 圖 _____ 和圖 _____ 可以拼砌出一個正方形。(1分)
- (b) 圖 A 和圖 B 可以拼砌出哪些平面圖形？(圈出所有答案)(1分)

答案：平行四邊形 / 正方形 / 長方形 / 三角形

2.

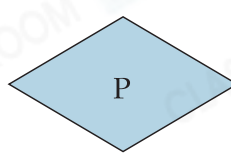
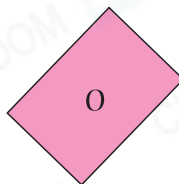
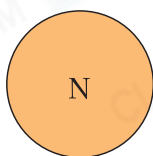


左圖是一個正六邊形。

- (a) 在圖中加上直線，把它分割成三個大小和形狀都相同的菱形。(1分)
- (b) 分割出的三個菱形可拼砌成哪種四邊形？(1分)

答案：_____ 形

3.



- (a) 以上哪些四邊形是平行四邊形的一種？(寫出所有代表答案的英文字母)(1分)

答案：_____

- (b) 上圖四邊長度相等的四邊形是 * _____。(* 寫出代表答案的英文字母) 它是一個 _____ 形。(2分)

4. 家怡嘗試用橡皮圈在右圖的釘板上圍出一個菱形，她應選用釘板上的 * D / E / F (* 圈出答案) 點，才能與 A、B 和 C 點圍出一個菱形。(1分)

