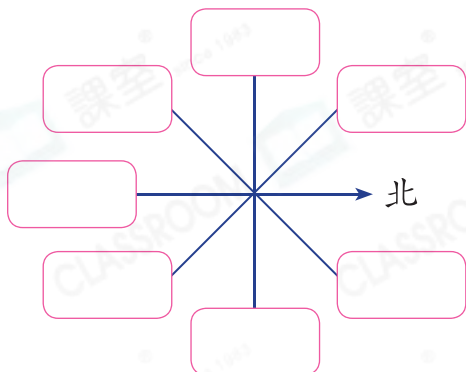




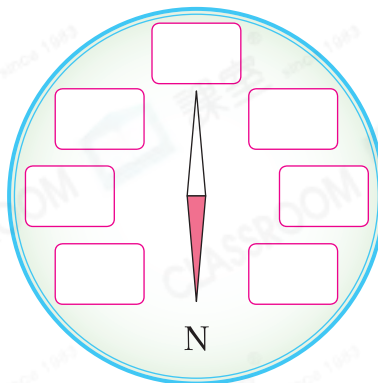
## 鞏固訓練

在空格內填上適當的方向。

1.

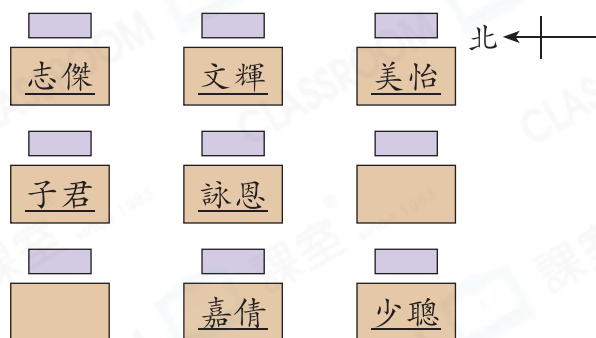


2.



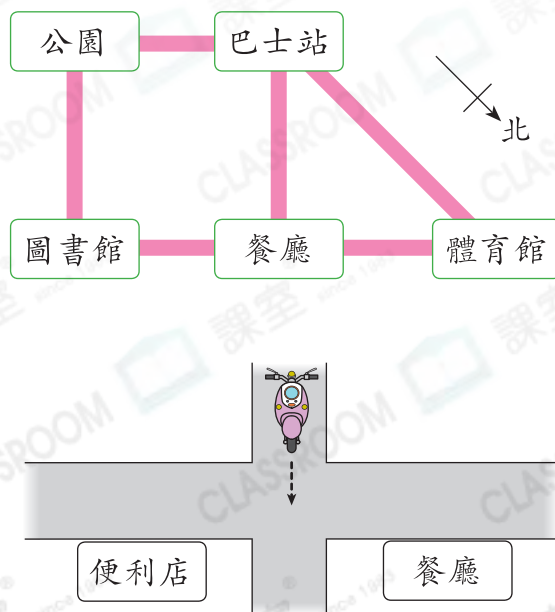
根據右圖，回答問題。

- 子君在文輝的\_\_\_\_\_方。
- 少聰在志傑的\_\_\_\_\_方。
- \_\_\_\_\_在詠恩的東南方。
- 詠恩在\_\_\_\_\_的東北方。



## 題型突破

- 右圖是學校附近的平面圖。
  - 公園在\_\_\_\_\_的東南方。
  - 美芳從餐廳去公園，她應先向東南方走，經過\_\_\_\_\_後，轉向\_\_\_\_\_方走便可到達。
- 右圖中的電單車正向東南方行駛。它應在岔路口轉向\_\_\_\_\_方行駛才可到達便利店。



9. 偉文原來背向西北方，順時針轉一個直角後，他面向哪方？

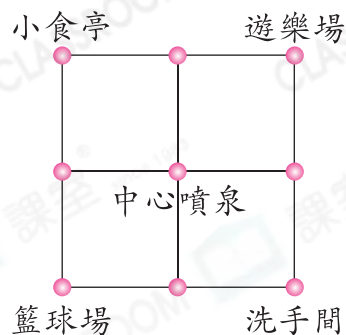
答案：\_\_\_\_\_方

CLASSROOM Educator

先畫出草圖，幫助解題。

10. 右面是一幅廣場地圖，籃球場是在中心噴泉的北方。智明在遊樂場，他要去洗手間，他應向哪個方向走，路程才是最短的？

- A. 南方      ○ B. 東方  
○ C. 西北方    ○ D. 東南方




妹妹從A點向南方走500米，再向東方走500米到達B點，如左圖所示。現在妹妹在A點的哪方？

答案：\_\_\_\_\_方

### 跨課題專區

12. 下圖是動物園部分景點的分布圖，昆蟲區在沙漠館的東方。



(a) 冰雪天地在昆蟲區的哪方？

答案：\_\_\_\_\_方

(b) 俊坤一家從昆蟲區向東南方走，可到達\_\_\_\_\_。

(c) 每份快餐的售價是45元，爸爸在小食部買了三份快餐，共須付款多少元？

答案：\_\_\_\_\_元

前往P.45查看同類型易錯題分析