



鞏固訓練

閱讀右面的棒形圖，回答下列各題。

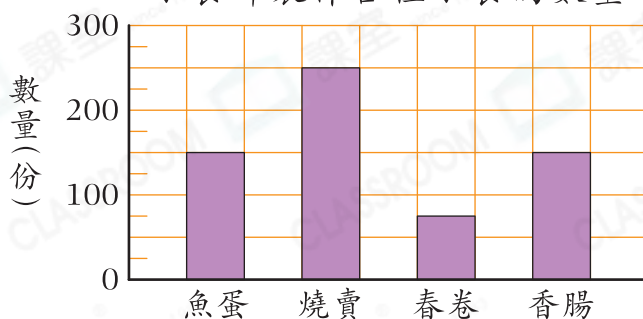
1. 每格代表 _____ 份小食。

2. 小食部製作了春卷多少份？

答案：_____ 份

3. 小食部製作最多的小食是 _____。

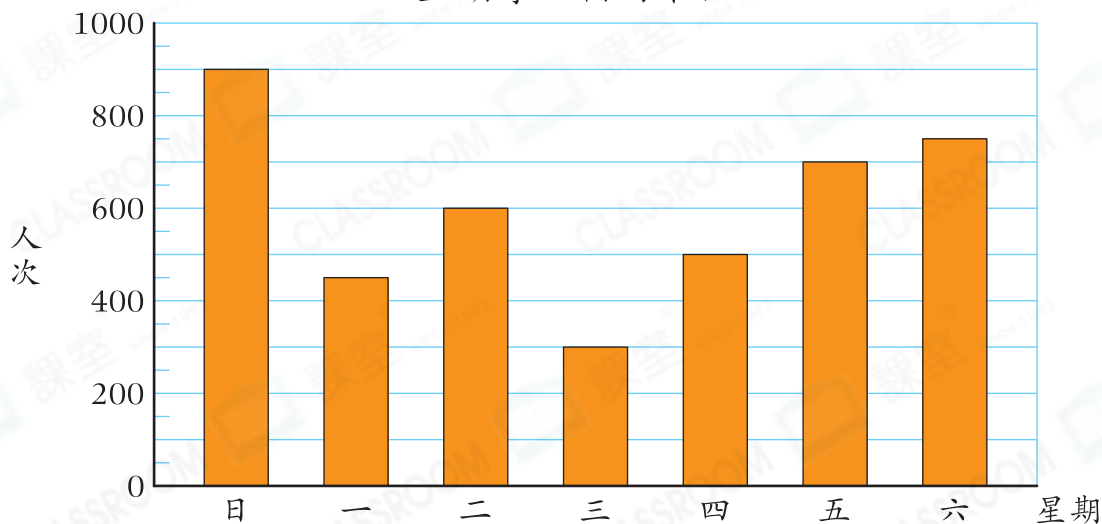
小食部製作各種小食的數量



題型突破

4. 以下棒形圖顯示了上星期摩天輪的乘搭人次。

上星期摩天輪的乘搭人次



(a) 星期 _____ 的乘搭人次最少，只有 _____ 人次。

(b) 星期日的乘搭人次比星期一的多 _____ 人次。

(c) 星期一至星期五共有 _____ 人次乘搭摩天輪。

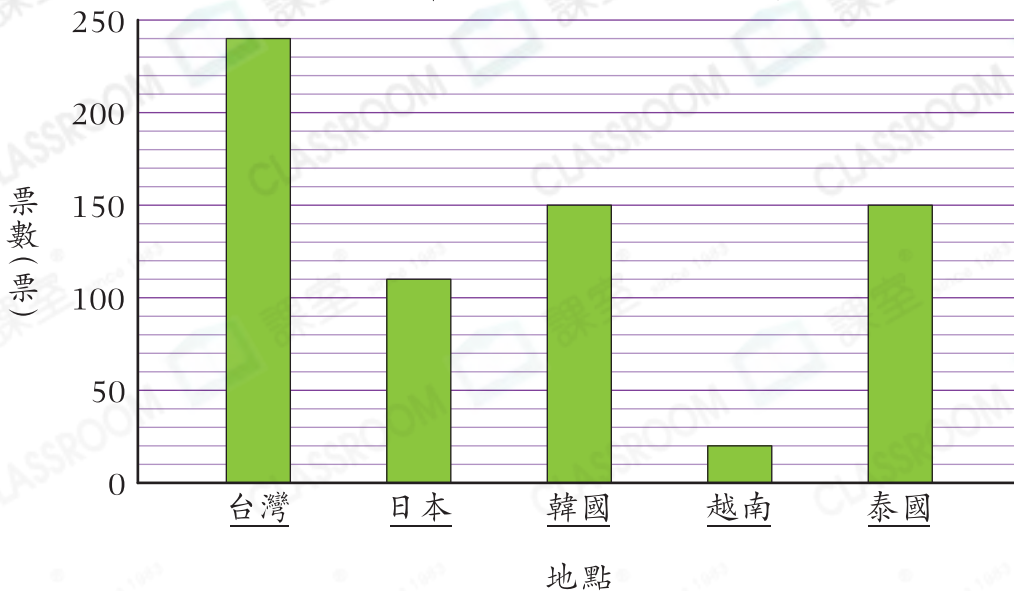
(d) 星期 _____ 的乘搭人次是星期三的兩倍。

(e) 哪連續兩天的摩天輪乘搭人次之和是最高的？

答案：星期 _____ 和星期 _____

5. 長河旅行社的顧客投票選出最喜愛的旅遊地點，結果如下：

「顧客最喜愛的旅遊地點」投票結果



(a) 哪兩個地點的票數相同？

答案：_____和_____

(b) 票數最多的地點的票數是票數最少的_____倍。

(c) 旅行社考慮停辦前往其中一個旅遊地點的旅行團，應該停辦前往哪個地點的旅行團？為什麼？

答案：因為_____，
所以應該停辦前往_____的旅行團。

跨課題專區

6. 右圖是太空館昨天各類門票銷量的統計圖。

(a) 昨天學生門票的銷量比成人門票的
* 多 / 少 _____張。

(* 圈出答案)

(b) 小童、學生及長者的門票售價都是
15元，太空館昨天售出這三類門
票共收得多少元？

答案：_____元

太空館昨天各類門票的銷量

