

單元小測(四)



日期

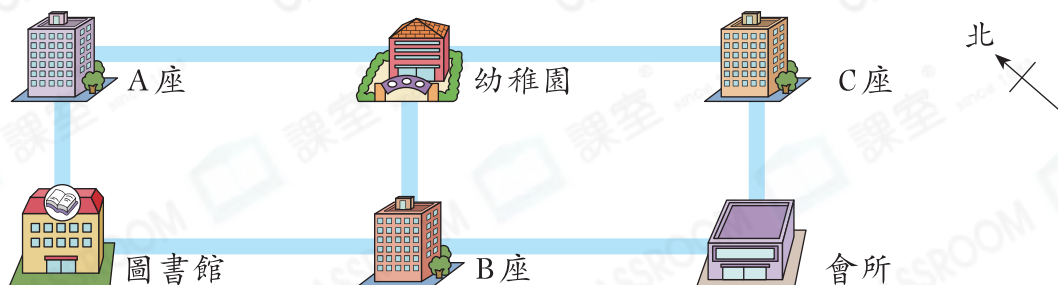
限時：20分鐘

練習 13 - 15



回答下列各題。(3分)

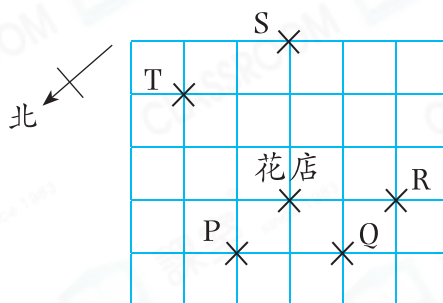
1. 下圖是和樂屋苑的平面圖。



- (a) 家銘住在B座，他家的東北方是_____。(1分)
- (b) 何老師從幼稚園前往圖書館，她向西北方走到_____座後，再轉向_____方走便可到達。(1分)

2. 兆平要去花店。在路上，他測得花店在他的西方。當時他在圖上哪一個位置？

答案：位置_____ (1分)



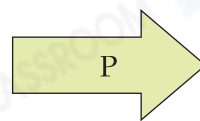
選出答案，把代表答案的○塗黑和塗滿。(3分，每題1分)

3. 明欣面向東南方，她向右轉三個直角後，面向哪一方？

- A. 東北方 B. 東南方 C. 西北方 D. 西南方

4. 箭咀P指向西方，下列哪個箭咀指向東南方？

- A.  B. 
- C.  D. 



5. 宣緯先往西南方走了300米，再轉向西北方走了300米。若他想以最短的路程返回起點，應向哪個方向走？

- A. 東南方 B. 東方 C. 西北方 D. 西方



根據資料，完成棒形圖。(3分)

5分鐘

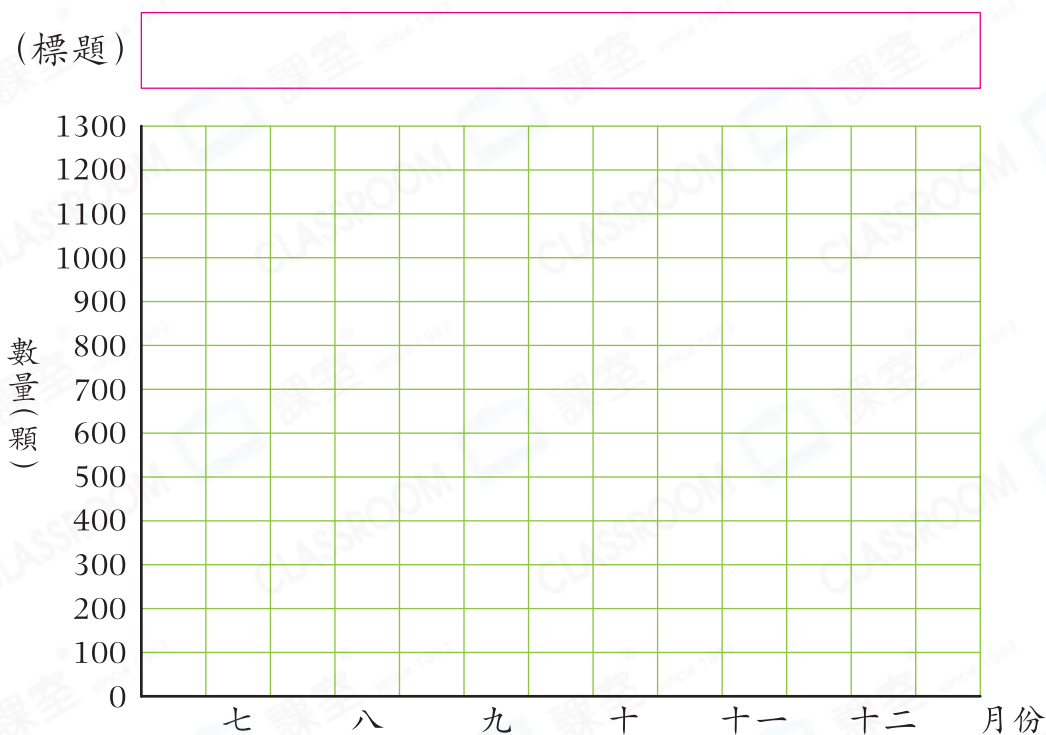
6. 下表顯示天文學會下半年觀測到的流星數量。

月份	七	八	九	十	十一	十二
流星數量(顆)	389	1296	578	712	1041	775
取近似值至百位						

(a) 把流星數量取近似值至百位，並完成上表。(1分)

(b) 根據湊整後的數據，製作棒形圖，並加上標題。(2分)

(標題)



根據上圖，回答下列各題。(4分)

5分鐘

7. 天文學會在十月觀測到約_____顆流星。(1分)

8. 下半年觀測到的流星數量最多和最少的月份，相差約_____顆。(1分)

9. 英仙座流星雨於下半年的某月出現，流星雨期間可觀測到的流星數量會明顯增加。你認為英仙座流星雨最可能在哪個月出現？為什麼？(2分)

答案：因為_____，

所以英仙座流星雨最可能在_____月出現。