



3 周界的認識

日期

成績



鞏固訓練

用顏色筆畫出下列各圖形的周界。

1.




2.




估計和量度下列各平面圖形的周界。

3.



4.



估計：_____ cm

量度：_____ cm

估計：約_____ 厘米

量度：約_____ 厘米



題型突破

5. 下列哪個圖形沒有周界？

A.



B.



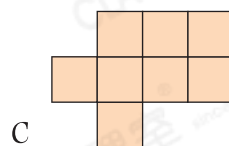
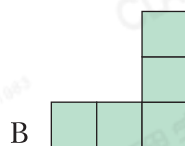
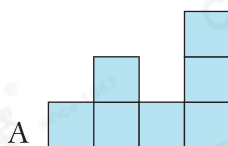
C.



D.



6.



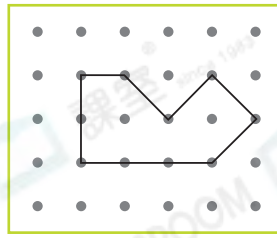
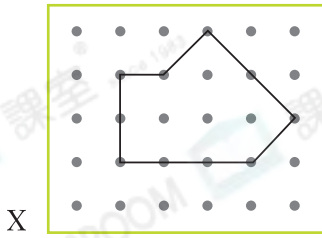
上面的三個圖形都是由邊長 1cm 的正方形組成。

(a) 圖形 A 的周界是_____ cm。

(b) 圖形 * A / B / C 的周界最短，它的周界是_____ cm。

(* 圈出答案)

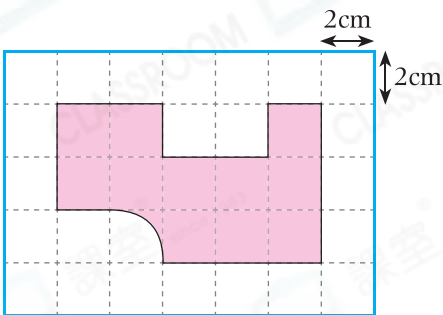
7.



細閱上圖，下列哪項描述是正確的？

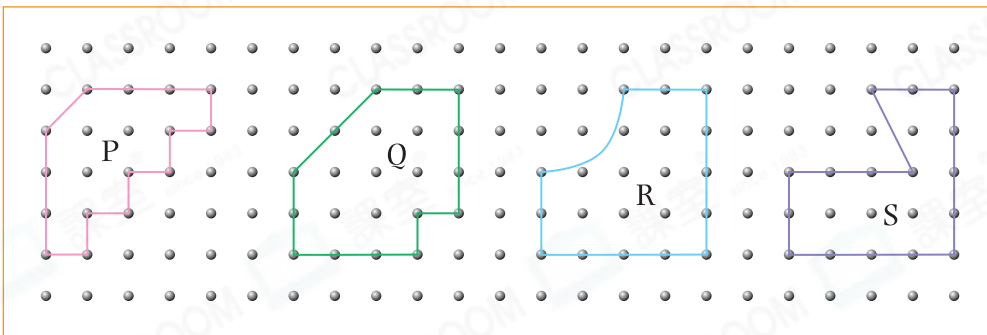
- A. X的周界比Y的長。
 B. X和Y的周界相等。
 C. X的周界比Y的短。
 D. 無法比較X和Y的周界。

8.



左圖中，每個小方格的邊長是2cm，着色部分的周界約是_____cm。(以整數作答)

9.



以上哪個圖形的周界是最短的？

- A. P
 B. Q
 C. R
 D. S

跨課題專區

10. (a) 右圖是由* 平行線 / 垂直線 組成。

(* 圈出所有答案)



(b) 用直尺量度這個圖形所有線段的長度，最長的一條線段的長度是_____cm。

(c) 右圖中的曲線約長3cm，這個圖形的周界約是_____cm。

前往P.22查看同類型易錯題分析