



4 正方形和長方形的周界

日期

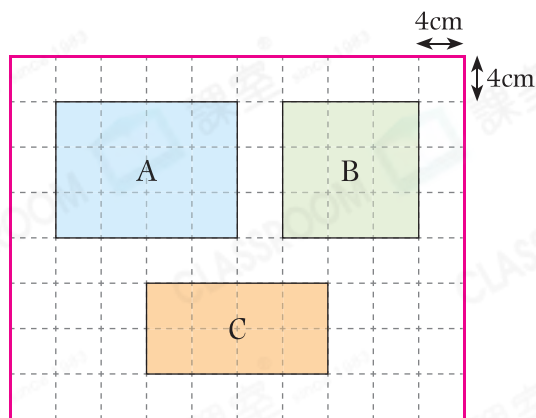
成績



鞏固訓練

回答下列各題。

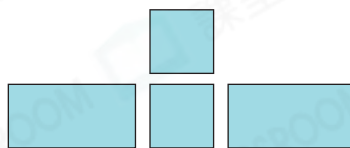
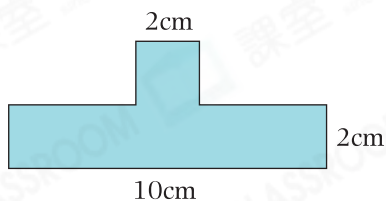
1. 圖形 A 的周界是 _____ cm。
2. 圖形 B 的周界是 _____ cm。
3. 圖形 * A / B / C 的周界最長。
(* 圈出答案)



題型突破

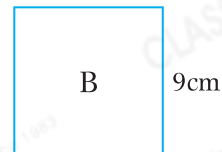
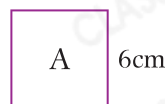
4. 一個正方形的周界是 44cm，它的邊長是 _____ cm。

5.



上圖可分割成兩個大小相同的正方形和兩個大小相同的長方形。

- (a) 每個正方形的周界是 _____ cm。
 - (b) 每個長方形的周界是 _____ cm。
6. 家敏有兩條絲帶，其中一條剛好可圍出正方形 A，另一條剛好可圍出正方形 B，這兩條絲帶共長 _____ cm。



7. 一個長方形花園長 5m、闊 3m。工人沿花園的外圍鋪磚塊，如果每小時可鋪 4m，最少需要 _____ 小時才鋪完。
8. 把一個正方形剪成兩個大小相同的長方形後，兩個長方形的周界之和比原來正方形增加 32cm。原來正方形的周界是 _____ cm。



應用題研習

9. 農夫在一塊長方形菜地周圍修築圍欄，共用去124m圍欄。若菜地的長是38m，它的闊是多少？



10. 一個正方形人工湖的外圍是一條闊1米的散步道，如右圖所示，人工湖的周界是多少米？



11. 成業從一張長17cm、闊15cm的長方形手工紙剪去一個最大的正方形，餘下圖形的周界是多少？



CLASSROOM Educator

可先畫出草圖，輔助計算。



跨課題專區

12. 妹妹用一條繩子圍出右面的長方形。

(a) 這個長方形的長是_____cm。

(b) 妹妹把繩子改圍成一個正方形，正方形的邊長是_____cm。



13. 叔叔每秒可跑4米，他圍繞邊長是20米的正方形水池跑步，從8時59分到9時2分，最多可圍繞水池跑_____圈。