

# 單元小測(一)

試前衝刺



日期

限時：20分鐘

練習 1 - 5



4分鐘

計算下列各題。(6分，每題1分)

1.  $21 + 56 \div 7 =$  \_\_\_\_\_

2.  $90 \div 18 \times 4 =$  \_\_\_\_\_

3.  $360 \div (6 \times 12) =$  \_\_\_\_\_

4.  $76 - 69 \div 23 =$  \_\_\_\_\_

5.  $(93 + 19) \div 8 \times 7 =$  \_\_\_\_\_

6.  $164 - 38 \div 19 \times 4 =$  \_\_\_\_\_



6分鐘

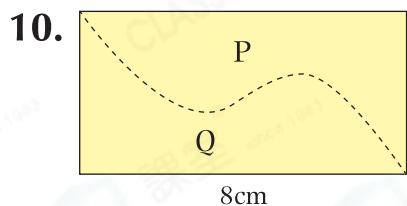
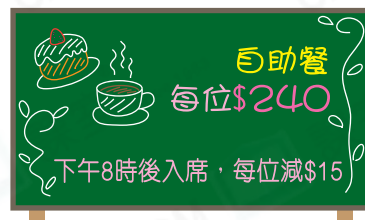
回答下列各題。(6分)

7. 飲品廠每天生產816盒綠茶，每6盒綠茶包裝成一排，並以每4排包裝成一箱。飲品廠每天可生產\_\_\_\_\_箱綠茶。(1分)

8. 一盒餅乾有72塊，媽媽將餅乾平均分給4位小朋友。每人吃去3塊後，現在每人有\_\_\_\_\_塊餅乾。(1分)

9. 浩軒和三位朋友於下午8時20分到餐廳吃自助餐。如果他們全部用50元紙幣結賬，最少須付紙幣多少張？(1分)

答案：\_\_\_\_\_張



沿虛線把左面的長方形剪開成P、Q兩部分，如果P的周界是30cm，Q的周界是多少？(1分)

答案：\_\_\_\_\_cm

11. 日升小學為校際舞蹈表演設計了一張正方形海報和一張長方形海報。



(a) 正方形海報的周界是\_\_\_\_\_cm。(1分)

(b) 長方形海報的周界是\_\_\_\_\_cm。(1分)



選出答案，把代表答案的○塗黑和塗滿。(3分，每題1分)


12. 哥哥原有144枚郵票，多收集16枚後，剛好可放滿兩本集郵簿。每本集郵簿可放入郵票多少枚？

- A. 64枚      ○B. 80枚      ○C. 160枚      ○D. 320枚

13. 小狗圍繞長28米、闊15米的長方形籃球場跑了兩圈，牠跑了多少米？

- A. 43米      ○B. 86米      ○C. 88米      ○D. 172米

14. 右圖是由10個周界各是24cm的正方形組成。整個圖形的周界是多少？



- A. 84cm      ○B. 128cm      ○C. 162cm      ○D. 240cm



列式計算下列各題。(9分，每題3分)

15. 農場上星期用去的農藥比肥料少33包。平均每天用去肥料多少包？

上星期共用去  
72包農藥。



16. 把報讀游泳初級課程的學生，每18名分成一班，可分成12班，並餘下3人。若每15名學生分成一班，會餘下多少人？

17. 右圖的周界是多少？

