



6 面積的認識

日期

成績



鞏固訓練

根據下列各物件的實際大小，圈出較合適的面積單位。

1. 書本封面



(cm^2 / m^2)

2. 門



(cm^2 / m^2)

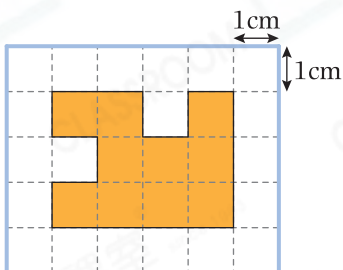
3. 揮春



(平方厘米 / 平方米)

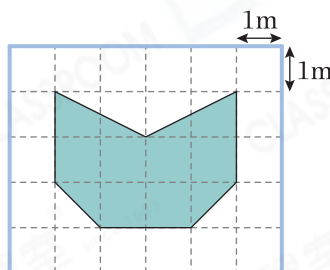
計算下列各圖中着色部分的面積。

4.



_____ cm^2

5.



_____ m^2



題型突破

6. 下列哪個物件表面的面積最大？

A. 地毯

B. 書籤

C. 郵票

D. 筆記簿

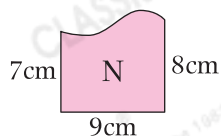
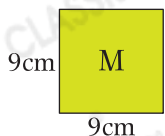
7. 在下列各項填上適當的度量單位。

(a) 一個信封的面積約是 200 _____。

(b) 一張雙人牀牀面的面積約是 4 _____。

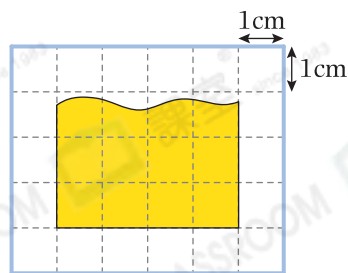
(c) 課室的面積約是 50 _____。

8.



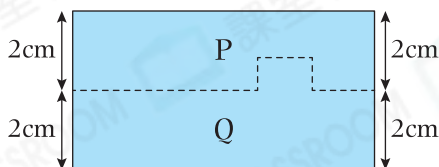
圖形 M 的面積* 大於 / 等於 / 小於 圖形 N 的面積。(* 圈出答案)

9. 右圖中，每個小方格的邊長是1cm，着色部分的面積約是_____cm²。
(以整數作答)

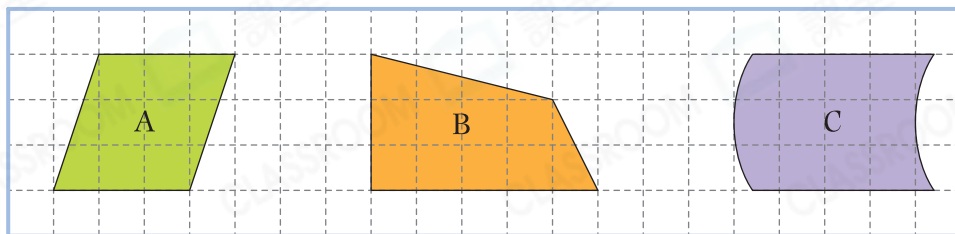


10. 把右面的長方形沿虛線剪開成P和Q兩部分，以下哪項描述是正確的？




- A. P和Q的面積相等。
○B. P的面積比Q的大。
○C. P的面積比Q的小。
○D. 無法比較P和Q的面積。

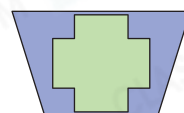


11. 比較下列各平面圖形的面積，由大至小排列出來。



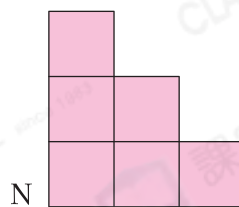
答案：_____，_____，_____。
(最大) (最小)

12. 根據右圖，*  /  /  的面積最大。
(* 圈出答案)



跨課題專區

13. 以下的兩個圖形都是由邊長1cm的正方形組成。



- (a) 圖形M的周界是_____cm。
(b) 圖形N的周界是_____cm。
(c) 圖形_____的面積較小，它比另一個圖形小_____cm²。