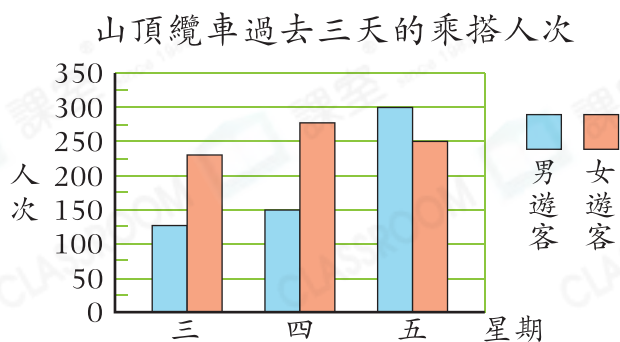




鞏固訓練

根據右面的複合棒形圖，回答下列各題。

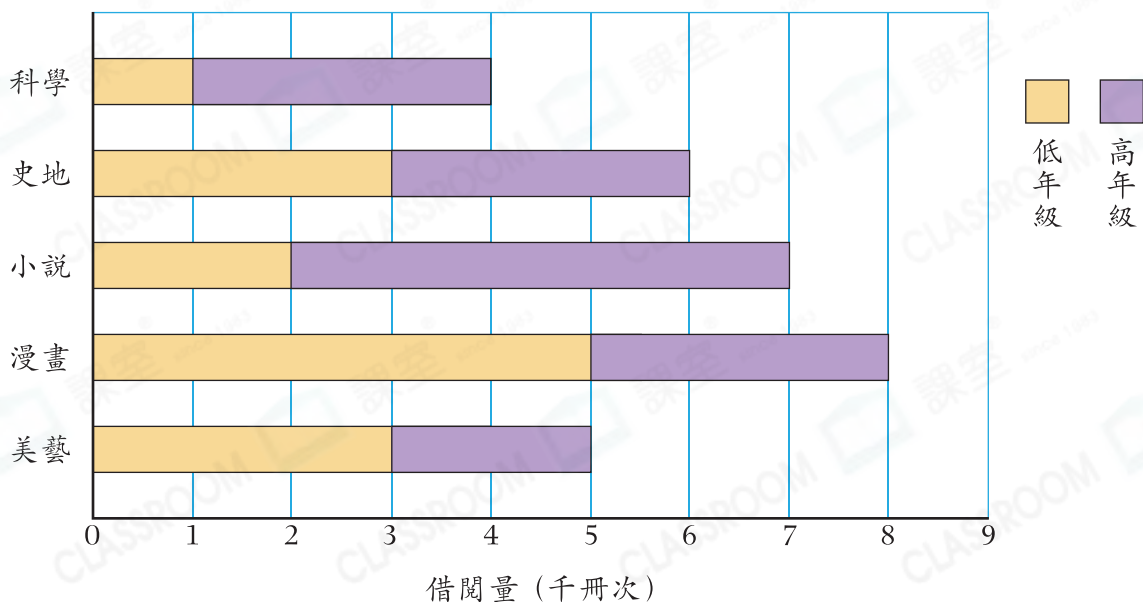
- 星期三有_____名男遊客乘搭山頂纜車。
- 星期_____的女遊客最多。
- 星期四共有_____人次乘搭山頂纜車。



題型突破

4. 老師統計了愛心小學圖書館上學年各類圖書的借閱量，結果如下：

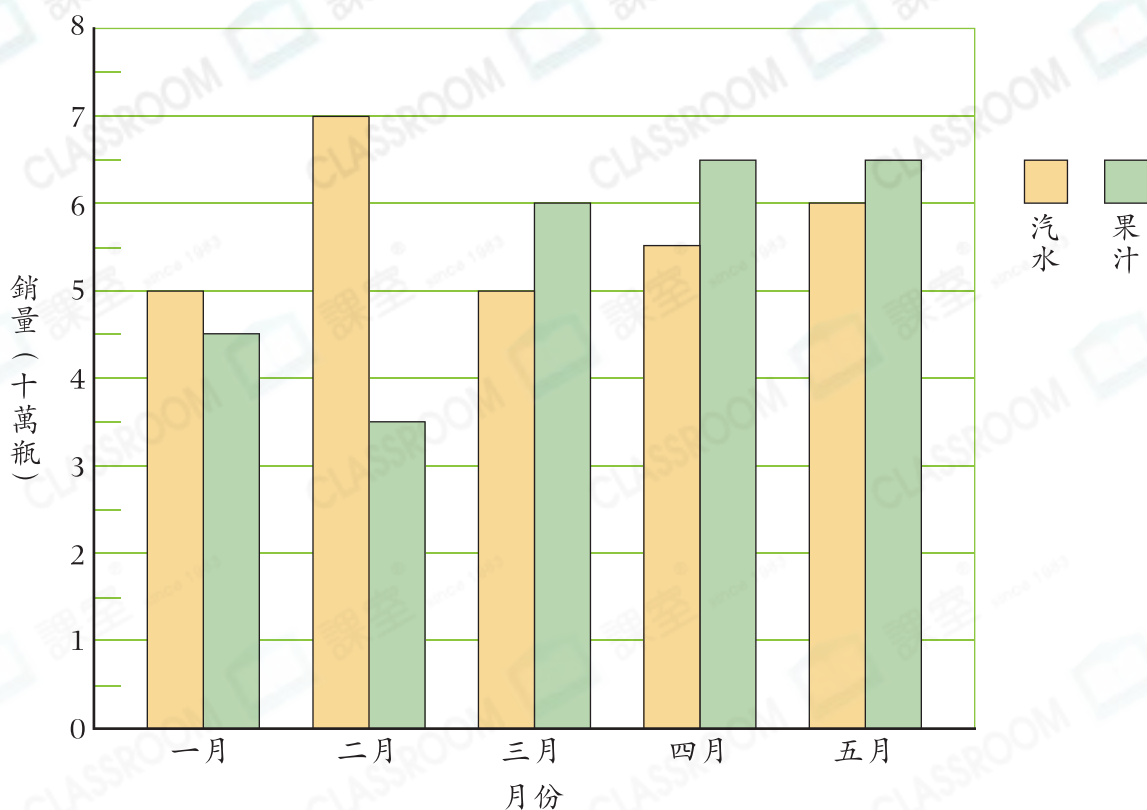
愛心小學圖書館上學年各類圖書的借閱量



- _____類圖書的借閱量最少，只有_____冊次。
- 漫畫類圖書的高、低年級借閱量相差_____冊次。
- 美藝類圖書的借閱量佔總借閱量的_____。(以最簡分數作答)
- 對比最多和最少高年級學生借閱的圖書，借閱量相差_____冊次。

5. 下圖顯示七福公司今年一月至五月的汽水和果汁的銷量。

七福公司今年一月至五月的汽水和果汁的銷量



- (a) 共有_____個月汽水的銷量比果汁的高。
- (b) 在_____月和_____月，果汁的銷量是相同的。
- (c) 二月的汽水銷量比三月的多_____瓶。
- (d) 在_____月，汽水和果汁的銷量相差最多。
- (e) 在一月至五月，* 汽水 / 果汁 的總銷量較高。
(* 圈出答案)

CLASSROOM Educator

棒的高度相差越多，
銷量相差越多。



跨課題專區

6. 根據上圖，

- (a) 一瓶汽水有 $\frac{1}{2}$ L，一瓶果汁的分量是一瓶汽水的 $\frac{16}{25}$ ，一瓶果汁有多少？

答案：_____ mL

- (b) 在五月，七福公司售出汽水和果汁共收得 930 萬元。若每瓶汽水的售價是 9 元，每瓶果汁的售價是多少元？

答案：_____ 元