



5 多邊形的面積

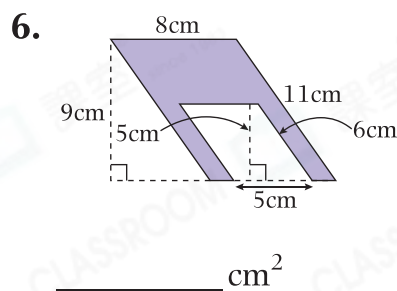
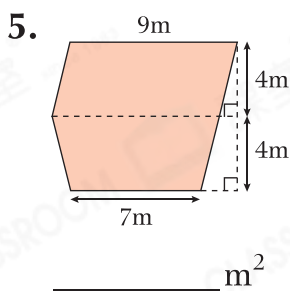
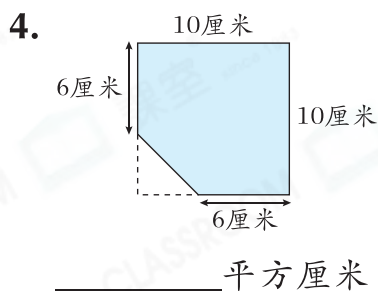
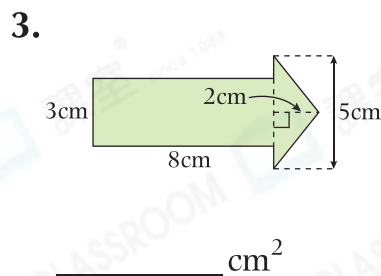
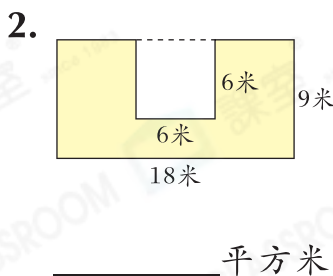
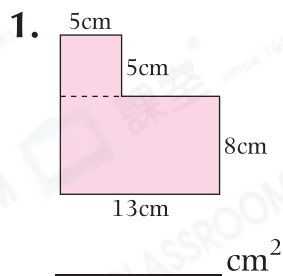
日期

成績



鞏固訓練

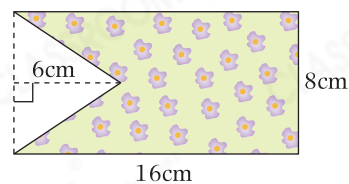
計算下列各多邊形的面積。



題型突破

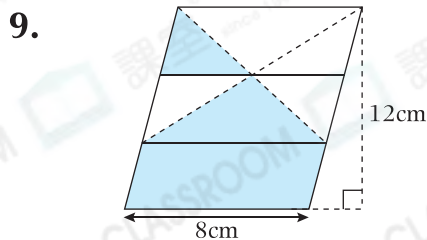
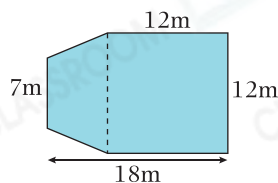
7. 右面是一張長方形貼紙，從貼紙中剪去一個三角形後，剩餘貼紙的面積是多少？

- A. 152cm^2 B. 128cm^2
 C. 104cm^2 D. 24cm^2



8. 右圖是一個天台的平面圖，該天台的面積是多少？

答案：_____ m^2



CLASSROOM Educator

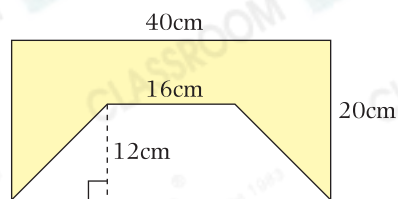
較小的三角形的底是平行四邊形底的一半。

上圖是由三個形狀和大小相同的平行四邊形拼砌而成的。其中着色部分的面積是_____ cm^2 。

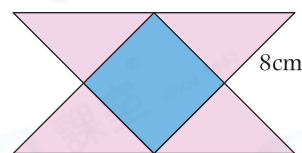


應用題研習

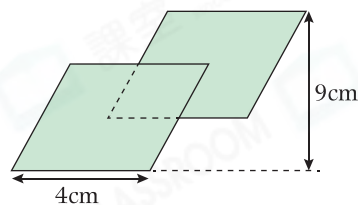
10. 右圖着色部分的面積是多少？



11. 世傑用四個大小相同的等腰直角三角形和一個邊長8cm的正方形拼砌出右圖。該圖形的面積是多少？

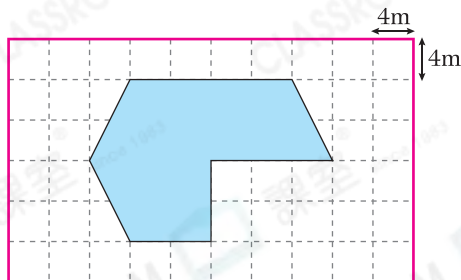


12. 右圖是由兩個大小相同的平行四邊形重疊而成，其中重疊部分的底和高都是大平行四邊形的一半。整個圖形的面積是多少？



跨課題專區

13. 下圖是一個多邊形水池的平面圖。



(a) 如果要將水池分成三個形狀和大小相同的區域，在上圖加上直線，畫出要分成的三個區域。

(b) 該水池的面積是_____ m^2 。



前往P.25查看同類型易錯題分析