

單元小測(一)

試前衝刺



日期

限時：20分鐘

練習 1 - 5



8分鐘

回答下列各題。(9分)

- 在 87 615 492 這個數中，
 - 數字「6」表示的數值是_____。(1分)
 - 這個數是一個* 奇數 / 偶數 (*圈出答案)。(1分)
 - 把這個數取近似值至_____位是 88 000 000。(1分)
- 把下列各數由大至小排列出來。(1分)

440 356

405 889

510 000

答案：_____，_____，_____。
(最大) (最小)

3.

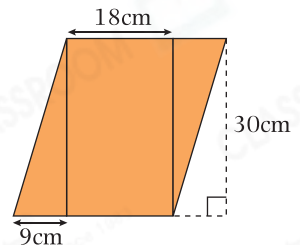


用中國數字寫出上面的數。(1分)

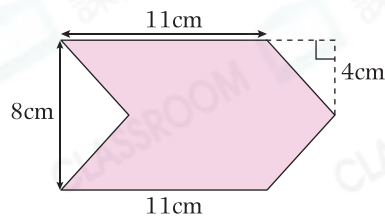
答案：_____

- 右圖是一個平行四邊形，它由一個長方形和兩個大小相同的直角三角形組成。

- 每個三角形的面積是_____ cm^2 。(1分)
- 平行四邊形的面積是_____ cm^2 。(1分)



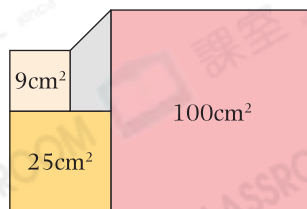
5.



左圖着色部分的面積是多少？(1分)

答案：_____ cm^2

6.



上圖是由三個正方形和一個梯形拼合而成。梯形的面積是多少？(1分)

答案：_____ cm^2



選出答案，把代表答案的○塗黑和塗滿。(3分，每題1分)

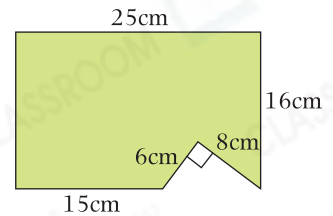
5分鐘

7. 美食節的入場費是每人\$10，總入場人數是754 312。把美食節的入場費收入取近似值至萬位應是多少？

- A. \$7 500 000 B. \$7 540 000
 C. \$7 600 000 D. \$8 000 000

8. 從一張長方形手工紙中剪去一個直角三角形，如右圖所示。剩餘手工紙的面積是多少？

- A. 424cm^2 B. 400cm^2
 C. 376cm^2 D. 352cm^2



9. 下列哪個圖形的面積與其他的不同？

- A.
 B.
 C.
 D.



列式計算下列各題。(6分，每題3分)

7分鐘

10. 右圖是由一個正方形和兩個大小相同的平行四邊形組成。整個圖形的面積是多少？



11. 右圖是由兩個大小不同的正方形組成，它們的邊長分別是6cm和10cm。着色部分的面積是多少？

