

單元小測(二)

試前衝刺



日期

限時：20分鐘

練習 4 - 7



3分鐘

計算下列各題。(6分，每題1分)

1. $0.78 \times 0.1 =$ _____

2. $4.59 \times 10 =$ _____

3. $12 \times 2.5 =$ _____

4. $3.25 \times 8 =$ _____

5. $6.3 \times 2.6 =$ _____

6. $22.3 \times 1.1 =$ _____



7分鐘

回答下列各題。(6分)

7.



我家和學校相距 0.79km。

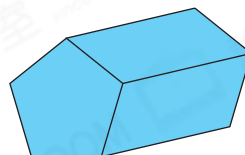
文耀

文耀每天都騎單車上學和放學。上星期他上學五天，共騎了_____ km。(1分)

8. 每公斤果汁糖售 34元 5角，可盈買了 0.8 公斤，她共須付款多少元？(1分)

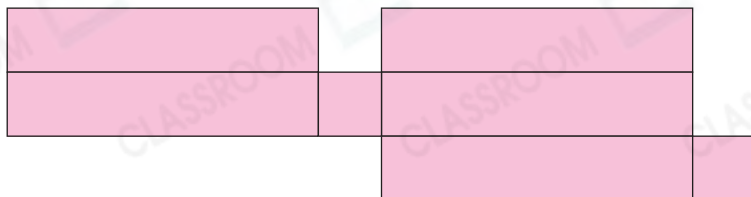
答案：_____元

9. (a) 右圖的立體圖形有_____個頂點和_____條稜。(1分)




(b) 平行於底切開右圖的立體圖形後，所得截面是一個_____形。(1分)

10. 子晴嘗試畫一個長方體的摺紙圖樣，但多畫了一個面，在下圖中多出的面上加「X」。(1分)



11.

竹籤X



竹籤Y



膠珠



偉文用以上的材料製作一個正方體，最少還欠_____枝竹籤X，_____枝竹籤Y和_____粒膠珠。(1分)



選出答案，把代表答案的○塗黑和塗滿。(3分，每題1分)

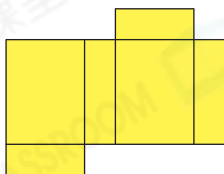
4分鐘

12. 爸爸每天看電視1.5小時，由3月5日至3月20日共看電視多少小時？

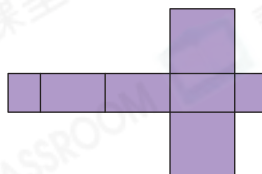
- A. 7.5小時 B. 22.5小時 C. 24小時 D. 30小時

13. 下列哪個摺紙圖樣不可以摺出長方體？

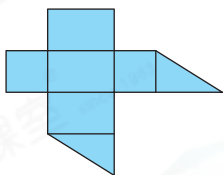
A.



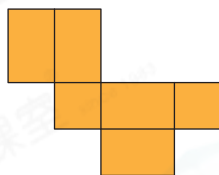
B.



C.

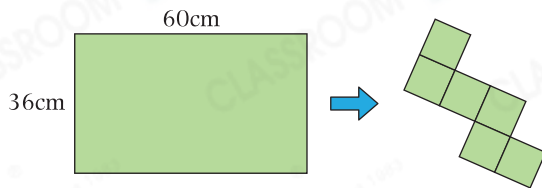


D.



14. 嘉明用右面的長方形卡紙剪出正方體摺紙圖樣，摺出的正方體的邊長最長是多少？

- A. 9cm B. 12cm
 C. 15cm D. 20cm



列式計算下列各題。(6分，每題3分)

6分鐘

15. 每公斤牛肉含有鈣0.23克，現有牛肉700克，含有鈣多少克？

16. 酒店自助餐原價每位98.5元，現在有「四人同行，一人免費」的優惠。媽媽與5位同事一起去吃自助餐，他們共須付多少元？