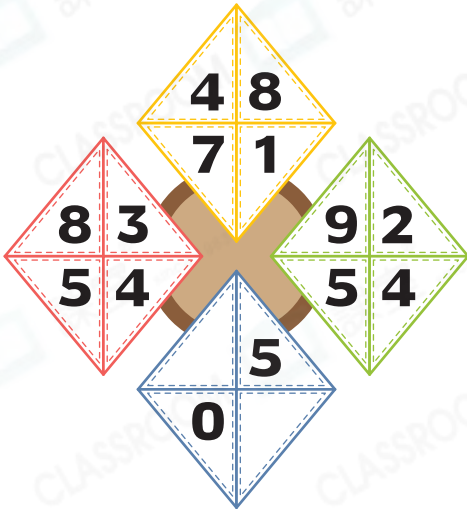




1

難度：👹👹👹👹👹

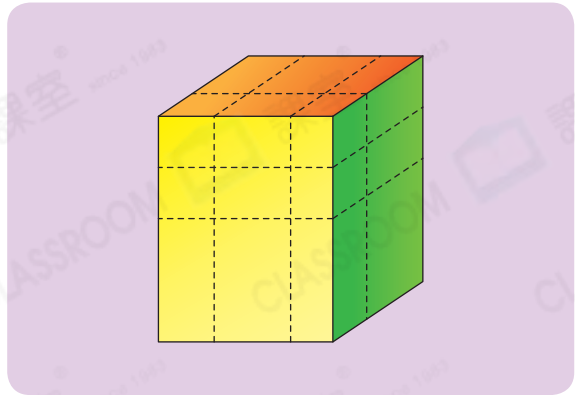
找出下圖中各數的規律，在空格內填上正確的數。



✓ 一剔  
 你答對了嗎？

2

難度：👹👹👹👹👹



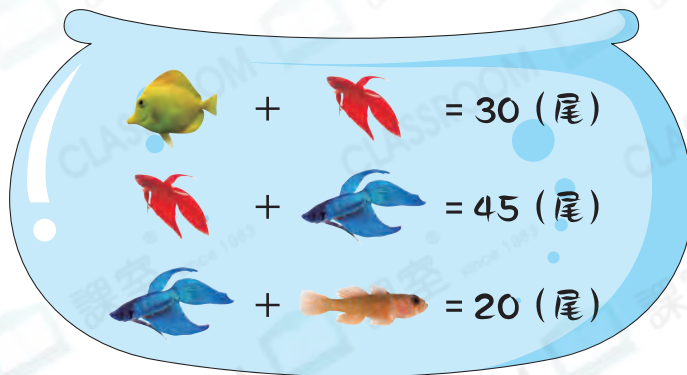
把長方體木塊的表面塗上油漆後，沿虛線切開，如上圖所示。得出的所有立體共有\_\_\_\_\_個面沒有油漆。

✓ 一剔  
 你答對了嗎？

3

難度：👹👹👹👹👹

下圖顯示水族店內各種魚的數目。

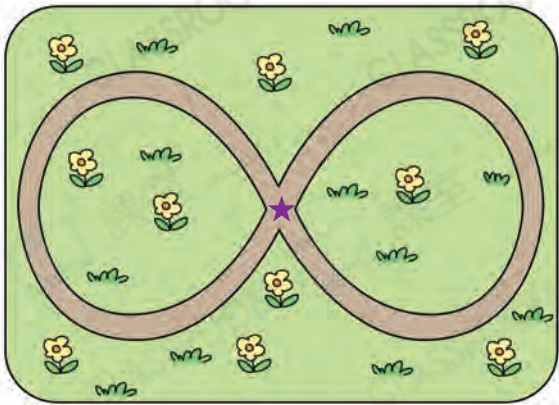


和 共有\_\_\_\_\_尾。

✓ 一剔  
 你答對了嗎？

4

難度：🍌🍌🍌🍌🍌



上圖是公園的平面圖，公園內有一條緩跑徑，全長240米。工人在中央畫上一個★(如上圖所示)，然後沿緩跑徑每隔4米畫一個★，整條緩跑徑共畫上\_\_\_\_\_個★。

一剔  
 你答對了嗎？

5

難度：🍌🍌🍌🍌🍌

農場有山羊和鴿子共96隻，牠們合共有324隻腳，分別有山羊和鴿子多少隻？



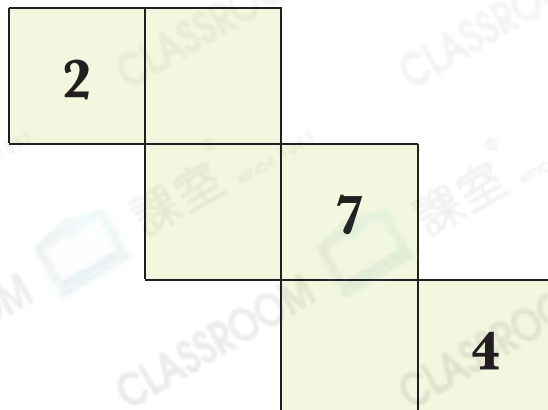
答案：有\_\_\_\_\_隻山羊和  
 \_\_\_\_\_隻鴿子。

一剔  
 你答對了嗎？

6

難度：🍌🍌🍌🍌🍌

下圖是一個正方體的摺紙圖樣，摺成的正方體各個面上都有一個數，它們是連續數。正方體三組相對的面上的兩數之和分別相等。在摺紙圖樣上填上遺漏的數。



一剔  
 你答對了嗎？