

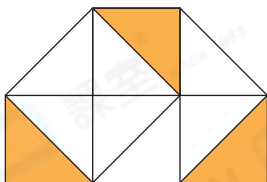
◆ 求百分數



鞏固訓練

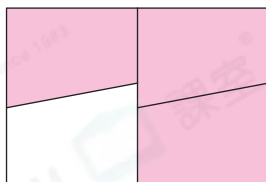
寫出下列各圖着色部分佔該圖的百分數。

1.



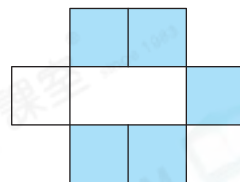
_____ %

2.



_____ %

3.



_____ %

在橫線上填答案。

4. 18 是 50 的 _____ %。

5. 42 是 56 的 _____ %。

6. 0.7 是 2.8 的 _____ %。

7. 6.9 是 2.3 的 _____ %。



題型突破

8. 6B 班有 30 名學生，其中 21 名戴眼鏡。戴眼鏡的學生佔全班的 _____ %。

9. 以下是周小姐購買的 10 枝鮮花。



(a) 佔全部鮮花的 _____ %。

(b) 哪兩種鮮花共佔全部的 30%? (圈出答案)



10. 一瓶綠茶有 600mL，思勤喝去 390mL。剩下的綠茶佔原來的 _____ %。

11. 一輛雙層巴士，上層有 69 個座位，下層有 30 個座位和 51 個企位。座位數量佔雙層巴士可載客人數的百分之幾？

 A. 20%

 B. 34%

 C. 46%


 D. 66%


前往 P.44 查看同類型易錯題分析



應用題研習

12. 右面的杯子中，盛了果汁的比空的多佔全部的百分之幾？



13. 一盒鉛筆，美雪取去 $\frac{1}{3}$ 盒後，志軒取去餘下的0.3。志軒取去了整盒鉛筆的百分之幾？



14. 舞蹈隊有27名女生和9名男生。如果6名女生退出舞蹈隊後，女生人數佔全部隊員的百分之幾？



跨課題專區

15. 志華購買了一部平板電腦。

(a) 平板電腦的售價是多少元？

答案：_____元

(b) 平板電腦剛充電完畢後，志華使用了3小時，屏幕顯示剩餘的電池電量是67%。平板電腦平均每小時消耗_____ %的電量。

平板電腦

- 12期供款 (免息)
- 首期供款\$500
- 之後每期月供\$324