

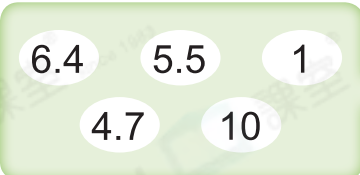

◆ 計算一組數據的平均數







鞏固訓練

計算下列各組數的平均數。

1.  

2.  

3.  

4.  



題型突破

5. 下列哪組數的平均數是最小的？

A. 19, 28, 45, 100

B. 28, 32, 43, 165

C. 20, 20, 41, 59

D. 21, 17, 26, $50\frac{4}{5}$

6. 浩軒四次測驗的成績分別是77分、91分、80分和96分，他的平均成績是_____分。

7. 貨車內有9箱貨物，它們的總重量是580kg。再將一箱重76kg的貨物搬進貨車後，貨車內貨物的平均重量是_____kg。

8. 媽媽在花店買了兩盆各售126元的蘭花和三盆各售74元的菊花。

(a) 平均每盆盆栽售_____元。

(b) 如果媽媽再買一盆售54元的茉莉。現在平均每盆盆栽的售價比原來的貴還是便宜？為什麼？

答案：因為_____

_____，
所以現在平均每盆盆栽的售價比原來的* 貴 / 便宜 (*圈出答案)。



應用題研習

9. 置達在過去四天分別儲蓄了27元、15元、0元和20元，他平均每天儲蓄了多少元？

10. 爸爸買了7件壽司，分別有1件三文魚、4件鰻魚和2件吞拿魚壽司，平均每件壽司售多少元？

味極壽司店

三文魚壽司	\$13
鰻魚壽司	\$12
北寄貝壽司	\$14
吞拿魚壽司	\$15

11. 在射擊比賽中，曉軍四次射擊的成績分別是7環、9環、8環和10環，以環數最高的三次射擊計算成績，曉軍的平均成績是多少環？



跨課題專區

12. 右圖統計了家銘過去五天游泳的時間。

家銘過去五天游泳的時間

(a) 星期_____游泳的時間最長。

(b) 星期一游泳的時間是星期二的幾分之幾？

答案：_____

(c) 星期_____游泳的時間剛好等於過去五天平均每天游泳的時間。

