



7 百分數的認識

日期

成績



鞏固訓練

把下列各數寫成百分數。

1. $\frac{98}{100} = \underline{\hspace{2cm}}\%$

2. $\frac{25}{100} = \underline{\hspace{2cm}}\%$

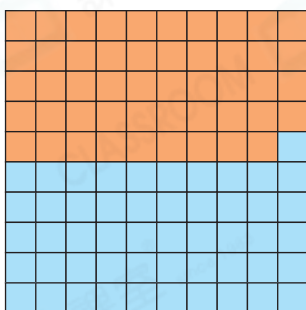
3. $\frac{77}{1000} = \underline{\hspace{2cm}}$

4. $2 = \underline{\hspace{2cm}}$

5. 三成 = $\underline{\hspace{2cm}}$

6. 六成半 = $\underline{\hspace{2cm}}$

寫出各部分佔全圖的百分數及讀法。



7. 橙色部分

百分數： $\underline{\hspace{2cm}}$

讀法： $\underline{\hspace{2cm}}$

8. 藍色部分

百分數： $\underline{\hspace{2cm}}$

讀法： $\underline{\hspace{2cm}}$




題型突破

9. (a) 在右面的方格內塗上陰影，使陰影部分佔整個圖形的34%。

(b) 白色部分比陰影部分多佔全圖的百分之幾？

答案： $\underline{\hspace{2cm}}\%$



10. 100名學生報讀暑期書法班，其中68%是男生，即共有 $\underline{\hspace{2cm}}$ 名男生報讀暑期書法班。

11. 一盒積木有100塊，圓柱積木和角柱積木各佔35%，餘下的是角錐積木。角錐積木佔全部積木的百分之 $\underline{\hspace{2cm}}$ 。

12. 以下是水果店各種特價水果的銷量，共售出100個。



26個



38個



8個



28個

- (a) 占全部銷量的_____ %。
- (b) 哪兩種水果共佔全部銷量的34%？(圈出答案)



CLASSROOM Educator

先分別求出每種水果
佔全部的百分數。

13. 以下是燕妮中、英、數三科的測驗成績。

中文測驗

得分：**83**
總分：100

英文測驗

得分：**56**
總分：100

ENGLISH

數學測驗

得分：**74**
總分：100

+-x÷

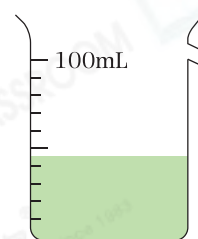
如果成績達到總分的60%或以上，該科測驗才算及格。燕妮在哪科/哪幾科測驗及格？

- A. 只有中文科
- B. 只有數學科
- C. 只有中文科和數學科
- D. 中文科、英文科和數學科

跨課題專區

14. 把綠茶倒進量杯，如右圖所示。綠茶佔去量杯總容量的百分之幾？

答案：_____ %



15. 右圖由10個大小相同的直角三角形組成。

- (a) 整個圖形的面積是_____ cm^2 。
- (b) 着色部分的面積佔整個圖形面積的百分之幾？
- 答案：_____ %

