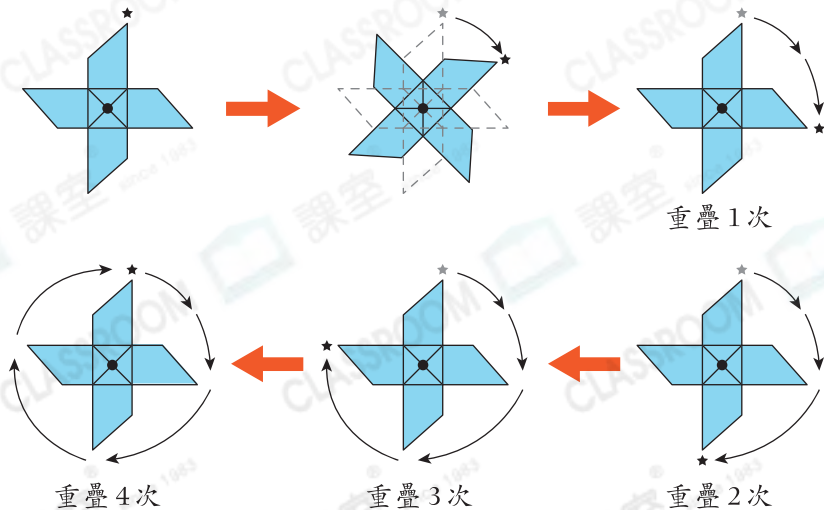


## 「對稱」的襟章



## 旋轉對稱

旋轉對稱圖形沿旋轉中心旋轉一周時，會與本來的圖形重疊多於一次。





## 鞏固訓練


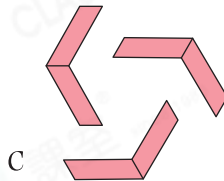
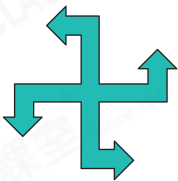

完成下表，並圈出所有正確答案。

	旋轉一周中重疊的次數	對稱軸數量	特性
1. 	_____次	_____條	旋轉對稱 / 軸對稱
2. 	_____次	_____條	旋轉對稱 / 軸對稱



## 題型突破


3. 觀察下面的圖形，把所有代表答案的英文字母寫在橫線上。



(a) 軸對稱圖形：\_\_\_\_\_

(b) 旋轉對稱圖形：\_\_\_\_\_

4.



根據左圖，在描述正確的空格內加「✓」，不正確的加「✗」。

(a) 有 0 條對稱軸。

(b) 以黑點為旋轉中心旋轉一周，  
與原來的圖形重疊 6 次。

5. 在右圖中，以黑點為旋轉中心，畫出一個  
旋轉一周會與原來的圖形重疊 4 次的圖形。

