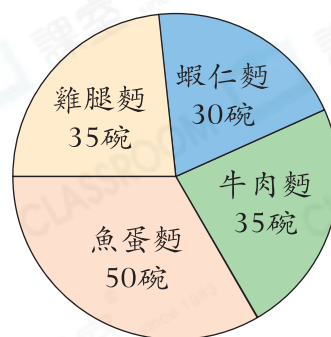




鞏固訓練

閱讀右面的圓形圖，並回答下列問題。

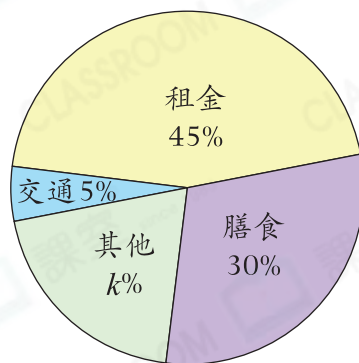
- _____ 和 _____ 的銷量相同。 茶餐廳昨天各種麵的銷量
- 銷量最多和最少的兩種麵相差 _____ 碗。
- 茶餐廳昨天共售出 _____ 碗麵。
- 蝦仁麵的銷量佔總銷量的 _____ %。
- 表示 _____ 的扇形，其圓心角是鈍角。
這種麵的銷量佔總銷量的 _____。
(以最簡分數作答)



題型突破

6. 右面的圓形圖顯示黃小姐七月的支出分布。
黃小姐七月的總支出是 8000 元。

黃小姐七月的支出



(a) k 的值是多少？

- A. 20
 B. 20%
 C. 72
 D. 72°

(b) 她在哪一個項目的支出最少？

答案：_____

(c) 哪兩項的總支出剛好佔七月支出的 75%？

答案：_____ 和 _____

(d) 膳食的支出比租金 * 多 / 少 _____ 元。

(* 圈出答案)

(e) 其他的支出中有一半是服裝的支出，服裝的支出是 _____ 元。

7. 右圖顯示長河酒店昨晚入住的外國遊客的分布情況。


(a) 昨晚入住的_____遊客數量最多。

(b) 日本遊客佔全部外國遊客的幾分之幾？

答案：_____

(c) 昨晚入住的英國遊客有10名，即共入住了_____名外國遊客。

長河酒店昨晚入住的外國遊客



8. 右圖顯示國良昨天的作息時間分布。

(a) 國良昨天的睡眠時間是_____小時。

(b) 做運動所用的時間比做功課少_____小時。

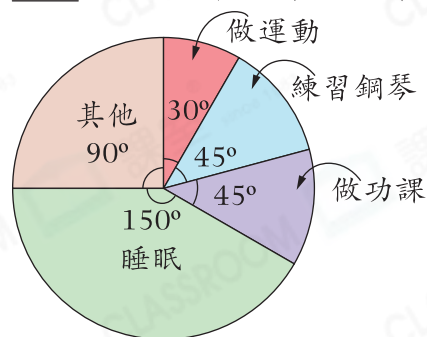
(c) 哪一項所用的時間佔總時間的 $\frac{1}{4}$ ？

答案：_____

(d) 代表哪兩項的扇形的圓心角相等？這表示什麼？

答案：代表_____和_____的扇形的圓心角相等，表示

國良昨天的作息時間分布



跨課題專區

9. 一杯特飲有650mL，右圖顯示一杯特飲的成分。

(a) 汽水比牛奶多_____%。

(b) 一杯特飲中有_____mL蜂蜜。

(c) 店員將一杯特飲和1.2L葡萄酒混合成雞尾酒，然後倒入一個長和闊都是10cm的長方體容器內，雞尾酒在該容器內的高度是_____cm。

一杯特飲的成分

